

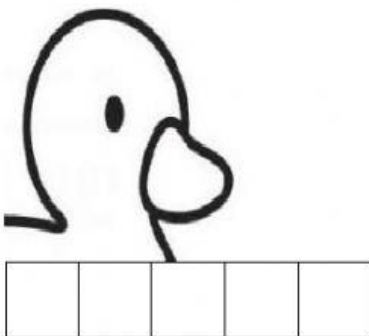




### Sumas de 3 niveles vertical.

Hoy en la casa de campo había 2 perros, 3 gatos, 1 pato.


Toca los cuadros según la cantidad de animales, arrastra los números que corresponden en los cuadros y da tu respuesta.



¿cuántos animales domésticos  
había en la casa de campo?

**2      6      3**

**1      7**





Registra las  
cantidades de  
galletas que se comió  
Tedy. Cuenta y  
arrastra los números.

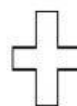
El Oso Tedy se comió 5 galletas.



Luego se comió 3.



Y en la noche se comió 2.



¿Cuántas galletas en total se comió  
el oso Tedy?

---

**10   5   2   9   3**



## Ayer pasamos por el súper mercado

**Y compramos:** Leche en \$3, un helado en \$3 y una galleta en \$1.

Marca los recuadros según la cantidad.



leche

--	--	--	--	--

--



Helado

--	--	--	--	--

--



Galletas

--	--	--	--	--

+	
<hr/>	

Cuenta en los recuadros y arrastra los números.

Anota tu respuesta.

¿Cuánto gastamos en la compra del súper Mercado?

**3 6 3 1 7**