















MATA PELAJARAN: MATEMATIK (KSSMPK KR)
 TAJUK: MATA WANG MALAYSIA
 SK: 3.5 Mata Wang Malaysia
 SP: 3.5.1 Mengenal wang syiling dan kertas
 (ii) Wang kertas

ARAHAN: Tonton dan fahami video. Jawab semua soalan.

 Padankan bahagian depan dan belakang wang kertas berikut.

 Dengar dan padankan.



dua puluh ringgit
RM 20



seratus ringgit
RM 100



sepuluh ringgit
RM 10



lima ringgit
RM 5



lima puluh ringgit
RM 50



satu ringgit
RM 1