

# LKPD Sistem Gerak Pada Manusia

## A. Tujuan

Mengidentifikasi berbagai kelainan pada sistem gerak manusia

## B. Bahan







Link video kelaian sistem gerak: <https://www.youtube.com/watch?v=L-QLkbbjsjs>

## C. Langkah Kerja


1. Bukalah link video di atas
2. Pahami dengan seksama materi kelainan pada sistem gerak manusia
3. Isilah kolom sistem gerak yang diserang dengan memberi tanda centang serta menjelaskan penyebab terjadinya kelainan sistem gerak dengan kolom jawaban nama kelainan yang benar.

## LKPD Sistem Gerak Pada Manusia

### D. Analisis Deskripsi

No	Gambar	Sistem Gerak yang Diserang			Penyebab Terjadi	Nama Kelainan*
		Rangka	Otot	Sendi		
1						
2						
3						
4						
5						
6						

## LKPD Sistem Gerak Pada Manusia

7							
---	---	--	--	--	--	--	--