































































Figurak eta isilunzak

IZENA	FIGURA	ISILUNEA	BALIOA
Kortxea			0,50 <i>Pultso erdia</i>
Beltza			1 <i>Pultso bat</i>
Beltza puntuarekin			1,50 <i>Pultso bat eta erdi</i>
Zuria			2 <i>Bi pultso</i>
Zuria puntuarekin			3 <i>Hiru pultso</i>
Biribila			4 <i>Lau pultso</i>

🔊 Gogoratu, figurak elkartu ahal ditugula pultsoak egiteko!:

 = 
 0,50 + 0,50 1

✏️ Zenbat pultso ematen dituzte?

	+		+		+		□
	+		+		+		□
	+		+		+		□
	+		+		+		□
	+		+		+		□
	+		+		+		□
	+		+		+		□
	+		+		+		□
	+		+		+		□
	+		+		+		□
	+		+		+		□
	+		+		+		□