



ESCOLA MUNICIPAL JOÃO GONÇALVES DE AZEVEDO

PROFESSORA: LÍLIAN VIDAL

TURMA: 2º ANO

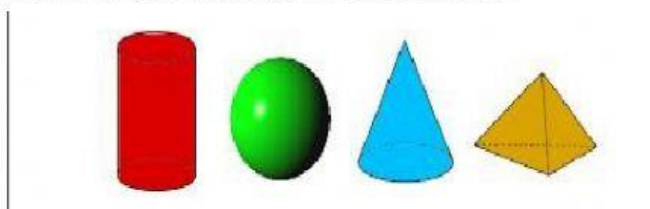
DATA: ____/____/____

ALUNO(A): _____

ASSISTA AO VÍDEO COM ATENÇÃO, LOGO DEPOIS RESPONDA O QUE SE PEDE.



LIGUE OS NOMES DAS FIGURAS GEOMÉTRICAS OS OBJETOS QUE SE PARECEM, USE A LEGENDA PARA IDENTIFICÁ-LO



CILINDRO _


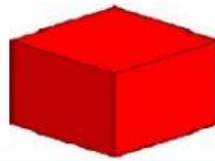
CUBO _

CONE _

ESFERA _



CLIQUE NOS OBJETOS PARA OUVIR SEUS NOMES, DEPOIS SELECIONE OS NOMES CORRETOS.



LIGUE OS SÓLIDOS GEOMÉTRICOS ÀS IMAGENS SEMELHANTES.



OBSERVE OS SÓLIDOS GEOMÉTRICOS E NUMERE CORRETAMENTE:



1



2



3



4



5

