

**CLC SABAH TEA-TKB PERMATA LOHAN**  
**PENILAIAN TENGAH SEMESTER TAHUN PELAJARAN 2021/2022**  
**PTS KELAS 2 TEMA 2 SESI 2**


Nama :  
Kelas :

Hari, Tanggal :  
Waktu : 90 Menit

**A. Soal Pilihan Ganda**

**Pilihlah salah satu jawaban yang paling tepat!**

1.  $44 : 11 = \dots$ 
  - a. 4
  - b. 33
  - c. 55
  
2. Ale mempunyai 80 ekor ikan dan beberapa akuarium.  
Ale akan mengisi setiap akuarium dengan 20 ekor ikan.  
Jumlah akuarium yang dibutuhkan Ale ada ....
  - a. 4 buah
  - b. 60 buah
  - c. 100 buah
  
3. Dondo sedang berwisata bersama 3 orang temannya.  
Dia membawa 90 buah anggur.  
Dondo akan membagikan anggur tersebut ke teman-temannya sama banyak.  
Jumlah anggur yang diterima oleh setiap temannya ada ....
  - a. 93 buah
  - b. 30 buah
  - c. 87 buah
  
4. Made membeli 5 bungkus permen kacang.  
Setiap bungkus berisi 10 permen kacang.  
Banyak seluruh permen kacang yang dibeli Made adalah ....
  - a. 5 buah
  - b. 15 buah
  - c. 50 buah
  
5. Perhatikan gambar berikut!



Bentuk penjumlahan yang menyatakan banyak mobil-mobilan adalah ....

- a.  $6 + 6 + 6 + 6 + 6 + 6 + 6 + 6 + 6 + 6 + 6$
- b.  $9 + 9 + 9 + 9 + 9 + 9$
- c.  $6 + 9 + 6 + 9 + 6 + 9$

6. .... : 12 = 4

- a. 8
- b. 16
- c. 48

7.  $40 : 8 = 5$ .

Jika ditulis dalam bentuk perulangan berulang menjadi ....

- a.  $40 - 8 = 5$
- b.  $40 - 5 - 5 - 5 - 5 - 5 - 5 - 5 - 5 = 0$
- c.  $40 - 8 - 8 - 8 - 8 - 8 = 0$

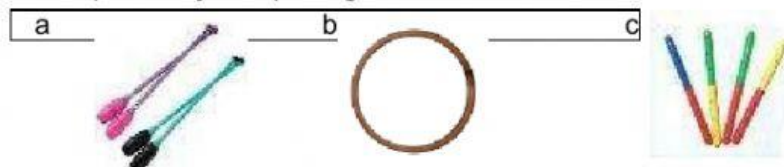
8. Dondo mempunyai 50 buah apel.

Dondo membagikannya sama rata kepada 5 temannya.

Apel yang diterima oleh setiap anak ada ....

- a. 45 buah
- b. 10 buah
- c. 55 buah

9. Gambar simpai ditunjukkan pada gambar ....



10. Perhatikan gambar berikut!



Latihan pada gambar tersebut menggunakan gerak dasar ....

- a. menarik
- b. mendorong
- c. menekuk

11. Gerakan memutar simpai dilakukan dengan sikap awal ....

- a. berdiri membungkuk
- b. berdiri tegak
- c. Jongkok

12. Perhatikan gambar berikut!



Cici dan Uni bermain mendorong bola seperti pada gambar tersebut. Latihan yang dilakukan Cici dan Uni bermanfaat untuk ....

- a. melatih keseimbangan otot kaki
- b. melatih kelentukan otot tangan
- c. melatih kekuatan otot tangan

13. Made berdiri dengan satu kaki.

Lutut kaki kanan ditekuk ke depan hingga menyentuh perut.

Kedua tangan Made menahan lutut.

Gerakan yang dilakukan Made ditunjukkan oleh gambar ....



14. Perhatikan gambar berikut!



Made berdiri dengan menekuk lutut ke depan seperti gambar tersebut.

Bagian kaki yang digunakan tumpuan adalah ....

- a. ujung telapak kaki
- b. tumit kaki
- c. seluruh telapak kaki

15. Latihan berdiri menekuk lutut ke belakang ditunjukkan pada gambar ....



16. Perhatikan penggalan notasi lagu berikut!

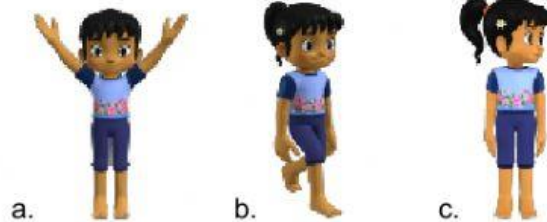
| 4 . 3 | 4 . 5 | 7 . . | 6 . . |

Nada si (7) dan nada la (6) pada notasi tersebut diikuti dua titik di belakang not.

Artinya nada tersebut dibunyikan panjang selama ....

- a. dua ketuk
- b. tiga ketuk
- c. empat ketuk

17. Gerak dasar tangan dalam tari ditunjukkan oleh gambar ....



18. Gerakan kepala, tangan, dan kaki yang dilakukan bersamaan disebut gerak ....

- a. koordinasi
- b. kooperasi
- c. komunikasi

19. Perhatikan berbagai bahan karya seni berikut!

- 1. Biji-bijian
- 2. Kerang
- 3. Plastisin
- 4. Manik-manik
- 5. Bunga kering

Dari berbagai bahan tersebut, yang termasuk bahan alam adalah nomor ....

- a. 1, 2, dan 3
- b. 1, 2, dan 5
- c. 2, 3, dan 4

20. Perhatikan gambar berikut!



Pola gambar di atas disebut ....

- a. sketsa
- b. skelet
- c. Skedul

### B. Soal Isian

Isilah titik-titik di bawah ini dengan jawaban yang tepat!

1. Hasil dari  $100 : 2 = \dots$
2. Hasil dari  $33 : 3 : 1 = \dots$
3. Hasil dari  $99 : 3 : 11 = \dots$
4. Perhatikan gambar berikut!



Bentuk perkalian yang menyatakan banyak telur adalah ....

5. Gerakan meliukkan simpai dilakukan dengan sikap awal ....
6. Perhatikan gambar berikut!



Pada gambar tersebut, Made jongkok dengan kedua tangan memegang di ....

7. Made meliukkan simpai ke kanan dan ke ....
8. Made mewarnai gambar imajinasinya menggunakan ... warna.
9. Kuat atau lemahnya tekanan sebuah lagu disebut ....
10. Made menarik tarian kupu-kupu.  
Made menirukan gerakan sayap kupu-kupu.  
Tangannya digerakkan ke atas dan ke bawah.  
Berdasarkan teks tersebut, Made melakukan gerak dasar ....