

Nama: \_\_\_\_\_

Kelas: \_\_\_\_\_

**PENDIDIKAN SAINS SOSIAL DAN ALAM SEKITAR**  
**KSSMPK SAINS TINGKATAN 1**

# UNIT 1 : MANUSIA

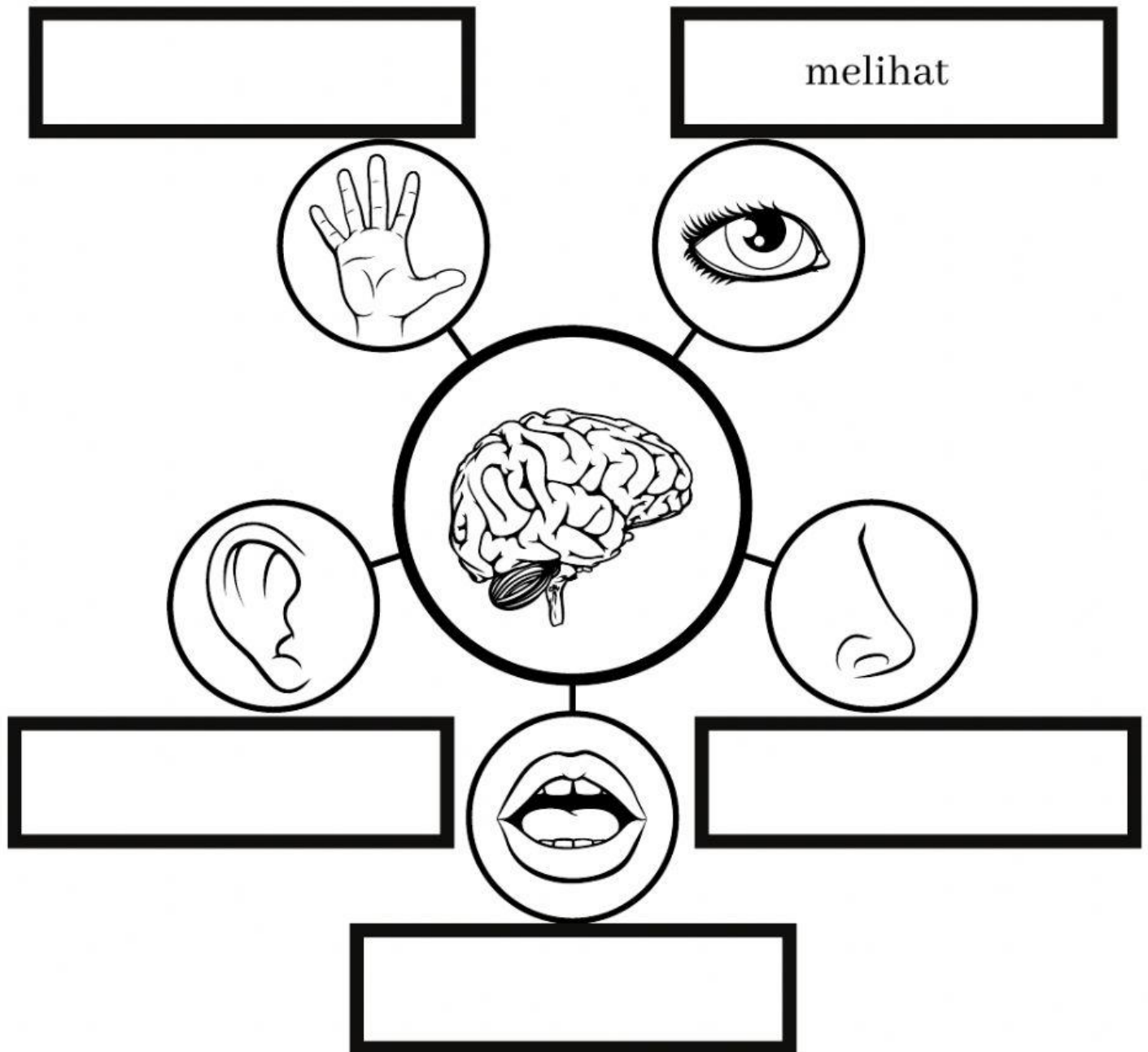


**DISEDIAKAN OLEH : CIKGU NUR MAHFUZAH BINTI MOHAMAD ZABIDI**

# 1.1 ORGAN DERIA MANUSIA

**Arahan:**






**Namakan fungsi organ deria di ruangan yang telah disediakan.**



# 1.1 ORGAN DERIA MANUSIA

**Arahan:**

**Lukiskan organ deria yang betul mengikut situasi yang diberi.**

Organ	Fungsi
	
	
	
	
	

# 1.1 ORGAN DERIA MANUSIA

Arahan :

Bina ayat berdasarkan situasi di bawah.

1.



Menonton

---

---

---

2.



Merasa

---

---

---

3.



Menghidu

---

---

---

# 1.1 ORGAN DERIA MANUSIA

Arahan :

Bina ayat berdasarkan situasi di bawah.

4.

Mendengar



---

---

---

5.

Menyentuh



---

---

---



# 1.1 ORGAN DERIA MANUSIA

Arahan :

Isi tempat kosong di ruangan yang telah disediakan.

manis

masin

pahit

masam

