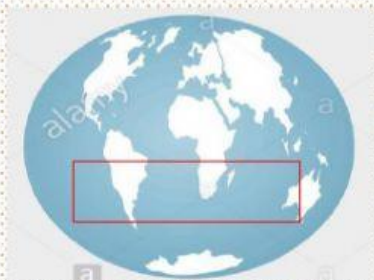


BIOGEOGRAFÍA DEL PLANETA: FORMACIÓN DE LOS CONTINENTES:

Destreza con Criterio con Desempeño: CS.4.2.1. Examinar el proceso de formación de la Tierra, la gestación de los continentes y las sucesivas eras geológicas.

Ubico los nombres según el proceso de cambios que se dieron en la Tierra debido al movimiento de las placas tectónicas:



Laurasia



Actualidad




Pangea



Godwana


Una las opciones correctas:



Cenozoico



Paleozoico



Mesozoico

Completar la siguiente actividad:

En _____ el científico _____, creó la teoría sobre la deriva continental donde estudió la Pangea (súper continente).