



LICEO DE LOJA

aprendiendo para ser

CARBOHIDRATOS

1.-SEÑALA LA FÓRMULA DE LA GLUCOSA

A.- $C_5 H_{10} O_4$

B.- $C_6 H_{12} O_6$

C.- $C_3 H_6 O_3$

D.- $C_5 H_{10} O_5$

2.-UNE CON UNA LÍNEA SEGÚN CORRESPONDA

GLUCOSA

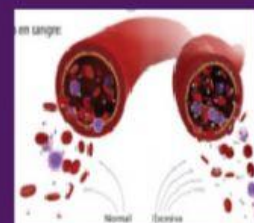
FRUCTOSA

GALACTOSA

RIBOSA



**AZÚCAR
DEL ARN**





3.-COMPLETA LAS FRASES CON EL DISACÁRIDO CORRECTO:

A.- GLUCOSA + GLUCOSA=

B.- GLUCOSA + FRUCTOSA

C. GLUCOSA +GALACTOSA=

4.-ESCOGE LA OPCIÓN CORRECTA SEGÚN LA FRASE:

LA CÉLULA TOMA EL AZÚCAR QUE NECESITA EN FORMA DE:

LOS POLISACÁRIDOS SON AZÚCARES PARA:

EL POLISACÁRIDO QUE ALMACENAMOS EN EL HÍGADO ES:

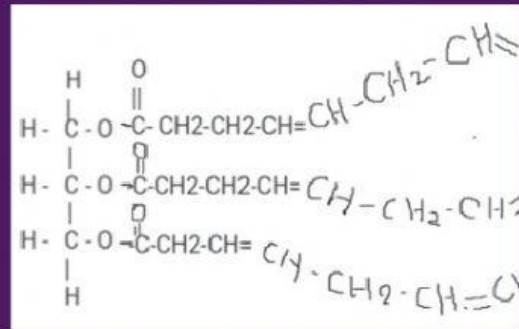
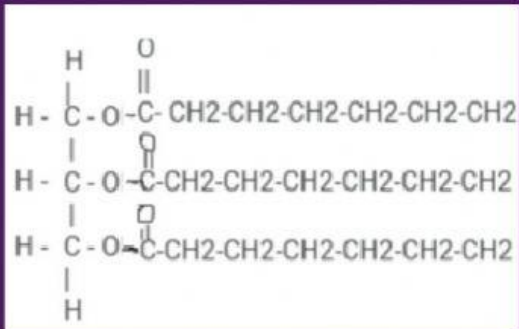
EL POLISACÁRIDO QUE SE ENCUENTRA EN LAS RAÍCES DE CIERTAS SEMILLAS ES:



LICEO DE LOJA

aprendiendo para ser

5.-OBSERVA EL SIGUIENTE TRIGLICÉRIDO Y ESCOGE EL NOMBRE



6.-SEÑALA DOS CARACTERÍSTICAS DE LAS GRASAS INSATURADAS

SON BUENAS PARA LA SALUD

SE ACUMULAN EN LAS ARTERIAS

PROVIENEN DE LOS VEGETALES

PROVIENEN DE LOS ANIMALES