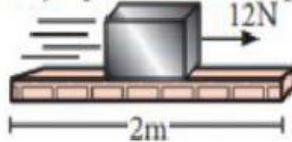




## PRACTICA CALIFICADA DE FÍSICA – TRABAJO MECÁNICO

Resuelve teniendo en cuenta la clase realizada

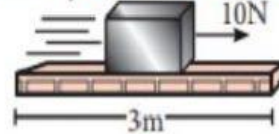
1. Calcula el trabajo que realiza el bloque.



$$W = \quad \times$$

$$W = \quad \text{J}$$

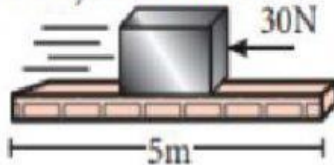
2. Calcula el trabajo mecánico del bloque.



$$W = \quad \times$$

$$W = \quad \text{J}$$

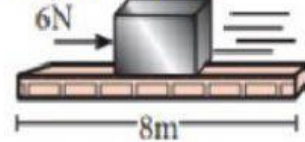
3. Calcula el trabajo mecánico.



$$W = \quad \times$$

$$W = \quad \text{J}$$

4. Calcula el trabajo del bloque.



$$W = \quad \times$$

$$W = \quad \text{J}$$