



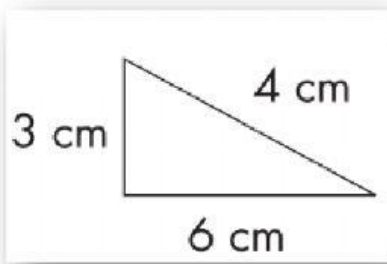
# Matemática

Actividad evaluada





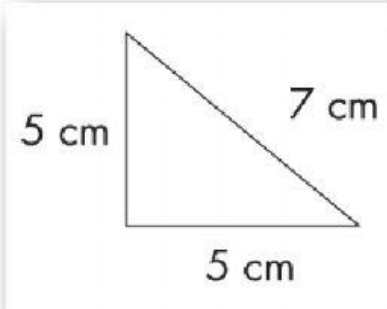
# 1. Clasifica los triángulos



*Equilátero*

*Isósceles*

*Escaleno*

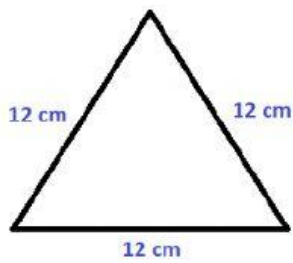


*Isósceles*

*Escaleno*

*Equilátero*





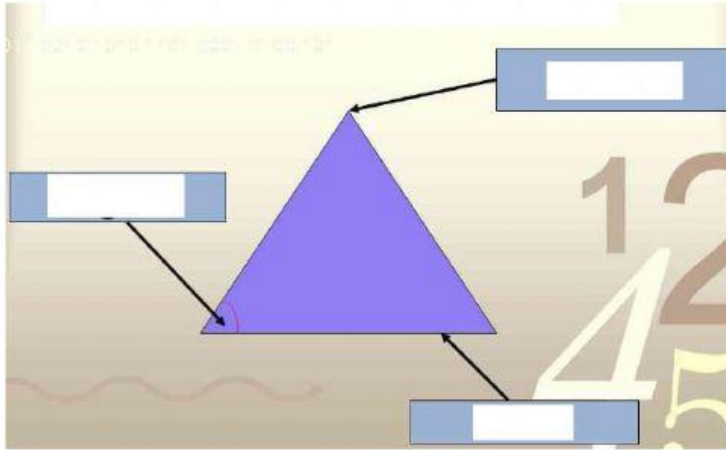
Isósceles

Escaleno

Equilátero



## 2. Arrastra los nombres de las partes del triángulo



ángulo

vértice

lado





### 3. Une con una línea cada cuadrilátero con sus características




*Tiene cuatro ángulos de  $90^\circ$  y cuatro lados iguales.*



*Tiene cuatro ángulos de  $90^\circ$  y dos pares de lados iguales*



*Gracias*



 **LIVEWORKSHEETS**