



Em Yêu Toán Học


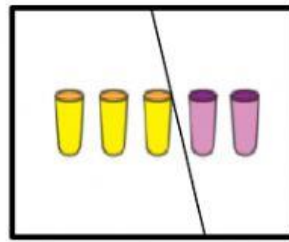

Họ và tên:

Lớp : 1

Bài 1: Viết số và dấu >, <, =?



3 > 1



Bài 2: Xem các thẻ số sau:



a. Tích vào các thẻ có số lớn hơn 5.

b. Tích vào các thẻ có số bé hơn 5.



c. Sắp xếp các thẻ số đã cho theo thứ tự từ bé đến lớn:

.....;.....;.....;.....;.....

Bài 3: Chọn câu trả lời đúng.

a. Cho thêm số bông hoa để số bông hoa nhiều hơn số con ong?



A.



B.

b. Bớt đi số cái cây để số cái cây ít hơn số quả dâu?



A.



B.

Bài 4: Đúng ghi đ sai ghi s vào ô trống?

6 > 5

7 < 5

8 = 9

3 = 3

9 > 5

2 < 4