




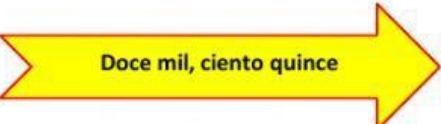
















Selecciona el ovalo donde se encuentra el número que está escrito en la flecha.

 <p>Ciento veinte mil, uno</p>				
 <p>Doce mil, ciento quince</p>				
 <p>Quinientos noventa y tres mil, dieciséis</p>				
 <p>Mil, dos</p>				

Elige la opción correcta de las cantidades escritas en cada cuadro.

**Ciento cincuenta y dos mil, trescientos treinta y dos.**

**quince mil, seiscientos diez.**

**Novecientos ochenta y nueve millones, setecientos ochenta y un mil, quinientos cincuenta y nueve**

**Nueve millones, ciento cinco mil, cinco**

**quince millones, seiscientos doce mil, cuatrocientos**

**Catorce mil, quinientos veinte.**