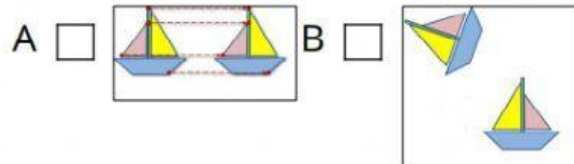




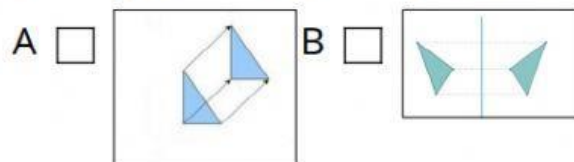
TRASLACIÓN DE FIGURAS – PARTE I

Marca la opción correcta:

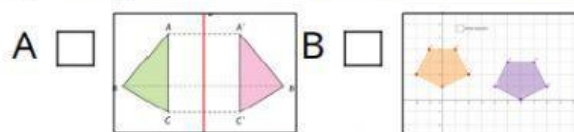
1. ¿Cuál pertenece a una traslación?



2. ¿Cuál pertenece a una traslación?



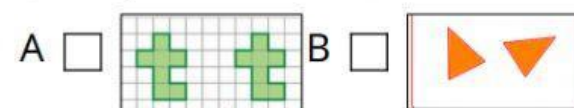
3. ¿Cuál pertenece a una traslación?



4. ¿Cuál pertenece a una traslación?



5. ¿Cuál pertenece a una traslación?



6. ¿Cuál pertenece a una traslación?

