

SDN SEMANAN 07 PETANG PENILAIAN TENGAH SEMESTER TAHUN PELAJARAN 2020/2021		Nama :
		No. Absen :
Mata Pelajaran : Tema 2 (Subtema 3 &4)		Nilai :
Kelas : I (Satu)		
Waktu : 90 menit		
Tanggal :		

I. Berikan tanda silang (x) pada jawaban yang benar !

1. Perbedaan pada Ayah dan Ibu adalah...

- a. Jenis kehidupan.
- b. Jenis kelamin.
- c. Jenis kaki
- d. Jenis Tangan

2. “Udin suka menggambar mobil dan Siti suka menggambar bunga”. perbedaan dari Udin dan Siti adalah..

- a. Kegemaran
- b. kehidupan
- c. kepintaran
- d. kecerdasan

3. Gambar dibawah ini adalah gambar ...



- a. Cara meletakkan buku yang benar
- b. Cara meletakkan buku yang salah
- c. Cara meletakkan buku yang kurang benar
- d. Cara meletakkan buku yang kurang benar

4. Gambar di bawah ini adalah gambar...

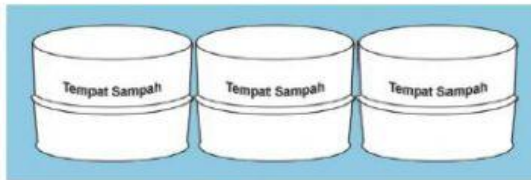


- a. Posisi duduk yang kurang benar.
- b. Posisi duduk yang tidak benar.
- c. Posisi duduk yang benar.
- d. Posisi duduk yang salah.

5. Cahaya ruangan untuk membaca harus dengan cahaya yang...

- a. Redup
- b. sinar
- c. Gelap
- d. Terang

6. gambar dibawah ini berbentuk...



- a. Lingkaran
- b. Tabung
- c. Kubus
- d. Balok

7. pada teks dibawah ini merupakan perbedaan di dalam kegemaran...

Ayah suka membaca.

Ayah membaca koran.

Ibu suka membaca.

Ibu membaca majalah.

- a. Kegemaran membaca
- b. Kegemaran hobi
- c. Kegemaran komik
- d. kegemaran majalah

8. Gambar di bawah ini merupakan gambar yang menunjukkan...



- a. cara membaca yang benar
- b. cara membaca yang salah
- c. cara membaca yang di anjurkan
- d. cara membaca yang baik.

9. Gambar di bawah ini merupakan gambar yang menunjukkan...



- a. cara membaca yang benar
- b. cara membaca yang salah
- c. cara membaca yang di anjurkan
- d. cara membaca yang baik.

10. Sebelum membaca kita harus memperhatikan..... ruangan.

a. Tempat

c. Cahaya.

b. Fungsi

d. Keadaan

11. Lengkapi pola gambar di bawah ini sesuai dengan polanya!



Pola gambar yang tepat adalah...

a.



b.



c.



d.



12. Lengkapi pola gambar di bawah ini sesuai dengan polanya!



Pola gambar yang tepat adalah...

a.



b.



c.



d.



13. Lengkapi pola gambar di bawah ini sesuai dengan polanya!



Pola gambar yang tepat adalah...

a.



b.



c.



d.



14. Ketika membaca kita harus mengatur jarak antar mata dan...


a. Meja

c. Tangan

b. Buku

d. Tembok

15. Bentuk bangun ruang yang terdapat pada gambar di bawah ini adalah..



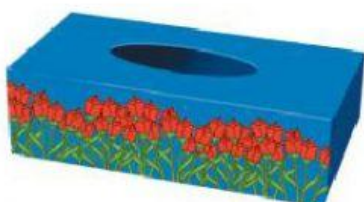
a. Kubus

c. Lingkaran

b. Balok

d. Tabung

16. Bentuk bangun ruang yang terdapat pada gambar di bawah ini adalah..



- a. Kubus
- b. Balok
- c. Lingkaran
- d. Tabung

17. Gambar yang berbentuk kubus adalah...

a.




c.



b.



d.



18. Ayah adalah seorang...

- a. lakik- laki
- b. anak- anak
- c. perempuan
- d. wanita

19. Bola berbentuk

- a. Segitiga
- b. Persegi
- c. Bulat
- d. Lonjong

20. Balok memiliki sisi yang ukuran dan bentuk...

- a. Berbeda
- b. Sama
- c. Sangat beda
- d. Hampir sama

II. Jawablah pertanyaan di bawah ini dengan tepat !

21. Apa yang harus kita perhatikan ketika membaca...

22. Sebutkan nama-nama bangun ruang !

23. Benda apa saja yang ada di dalam kelasmu yang berbentuk balok ?


24. Sebutkan ciri-ciri dari balok !

25. sebutkan 3 perbedaan yang terdapat di kelas..

26. Beri tanda (v) gambar yang berbentuk bola.



27. Lengkapi pola gambar di bawah ini.



28. Lengkapi pola gambar di bawah ini.



29. Sebutkan kesukaan makanan yang ada di rumah!

30. Jelaskan maksud gambar dibawah ini!

