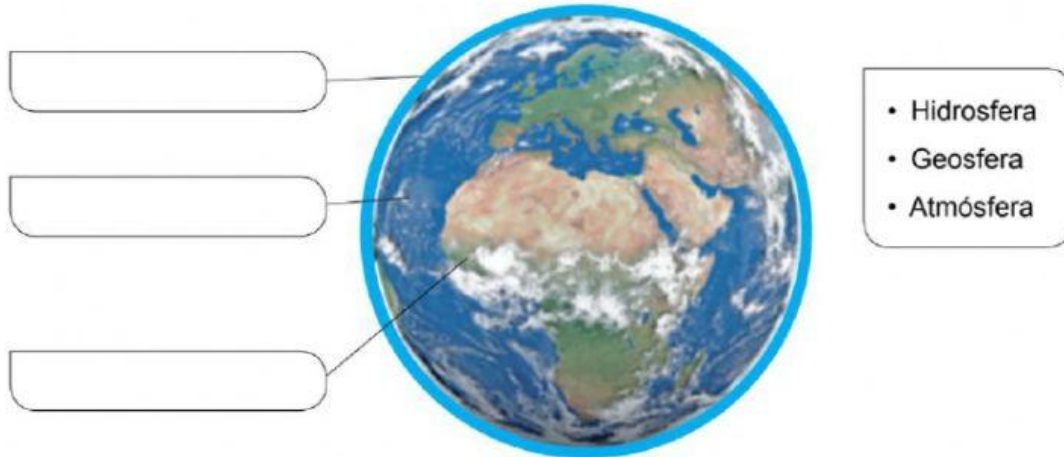


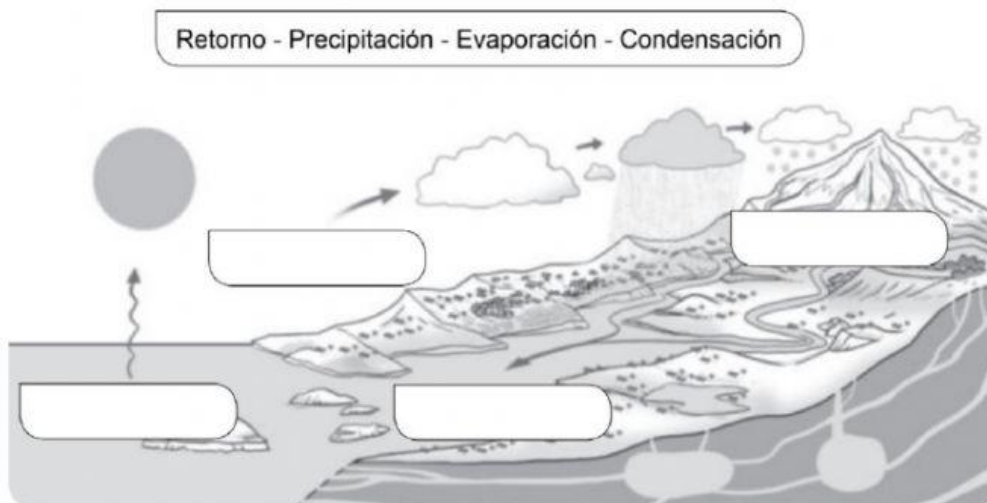
Evaluación inicial

Nombre _____ Fecha _____

- 1** Escribe en su lugar correspondiente los nombres de las capas de la Tierra.



- 2.** Escribe en su lugar correspondiente las fases del ciclo del agua. Después explica qué es.



- 3.** Observa la imagen y escribe tres elementos naturales y tres que hayan hecho las personas.



Elementos naturales

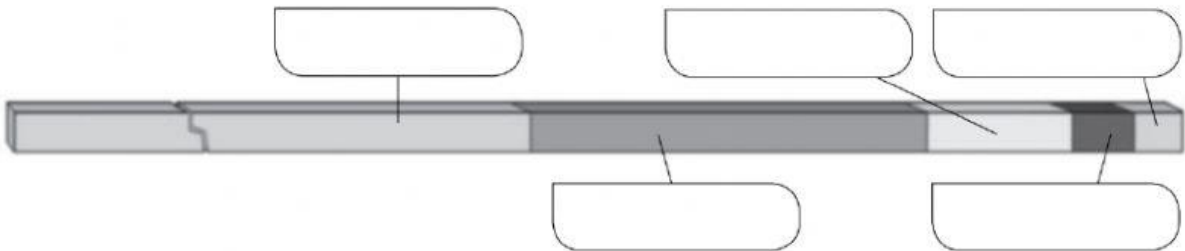
Elementos hechos por personas

4.Explica qué es un Ayuntamiento y nombra tres servicios municipales.

5.Escribe tres trabajos que pertenezcan a cada grupo.

Trabajos en la naturaleza	Trabajos del sector secundario	Trabajos del sector servicios

6. Escribe los nombres de las etapas de la historia en esta línea del tiempo.



7. Describe cómo era la vida en la prehistoria.

8. ¿Qué acontecimiento dio comienzo a la Edad Antigua?
