
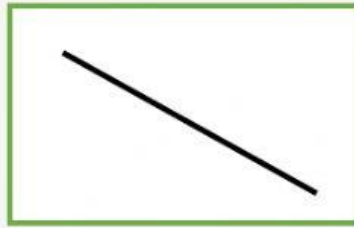


## Espacios Geométricos

### Las Líneas

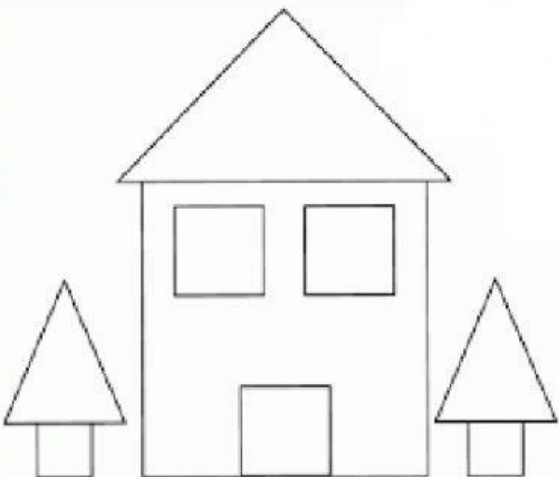
Identifica y escoge la respuesta correcta de las clases de líneas estudiadas



**Responde de forma correcta uniendo con una línea.**

- |   |            |
|---|------------|
| 1. La marca que deja la punta de un lápiz       | Segmento   |
| 2. Línea que no tiene principio ni fin          | Punto      |
| 3. Línea que tiene principio, pero no tiene fin | Recta      |
| 4. Línea que tiene principio y fin              | Semirrecta |

Identifica las cantidades de líneas verticales, horizontales y oblicuas en el dibujo



Hay \_\_\_\_\_ líneas verticales

Hay \_\_\_\_\_ líneas horizontales

Hay \_\_\_\_\_ líneas oblicuas