



## UNIDAD EDUCATIVA "SARAGURO"

### REFUERZO DE DIBUJO TÉCNICO

#### COMPLETA LA RESPUESTA:

1.- ¿Que es un ángulo?

Un **ángulo** es la .....formada por dos semirrectas (lados) con un mismo origen llamado .....

2.- ¿Que instrumento se utiliza para trazar y medir los ángulos?

4.-Completa las siguientes frases:

- Un ángulo recto es aquel que mide.....

- Un ángulo agudo es aquel que mide.....

- Un ángulo obtuso es aquel que mide.....

5.-Los ángulos se dividen en tres grupos, une cada frase con las palabras correctas:

POR EL GRADO DE

SUS LADOS

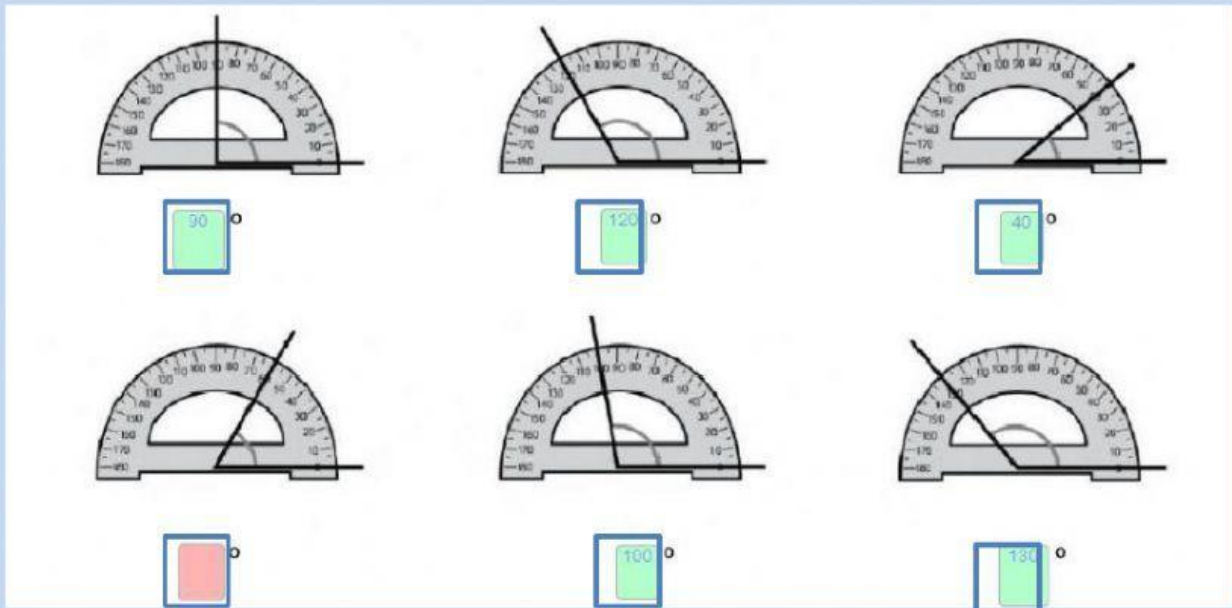
POR LA NATURALEZA DE

ABERTURA

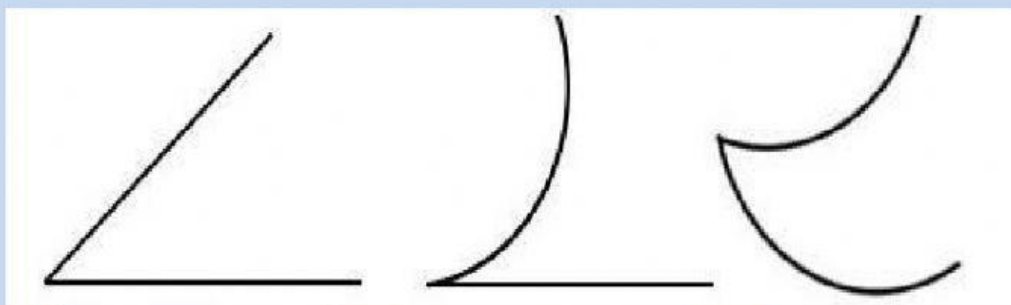
POR LA RELACION

ENTRE SI

6.-selecciona la medida de cada ángulo, según indica el transportador:



7.- Los ángulos según la naturaleza de sus lados se subdividen en tres tipos de ángulos, arrastra el nombre de los siguientes ángulos de manera correcta:

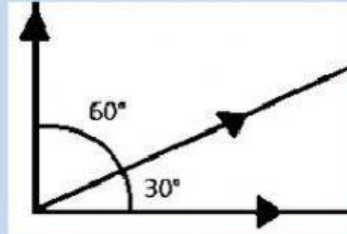
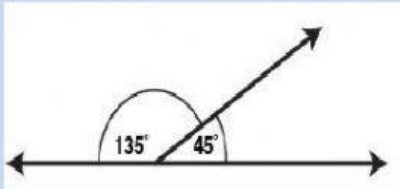


Mixtilíneo

Curvilíneo

Rectilíneo

9.-Selecciona el nombre de estos ángulos, tomando en cuenta la suma de sus dos ángulos:



10.-reconoce estos ángulos y tomando en cuenta su lado común selecciona sus nombres:

