

EVALUACIÓN DEL TERCER PARCIAL
PRIMER QUIMESTRE

DOCENTE:	BORBOR ARMENDÁRIZ MELANY NOEMÍ	NOMBRE DEL ESTUDIANTE:	
GRADO/CURSO:	GRADO 4	CALIFICACIÓN:	
ASIGNATURA:	COMPUTACIÓN	FECHA:	

Instrucciones

- 1.- El tiempo estimado para el desarrollo de la evaluación es de 35 minutos.
- 2.- La evaluación es individual y es para valorar sus conocimientos, por lo tanto, se prohíbe realizar consultas en internet o en el material de clases, durante el tiempo de la evaluación.
- 3.- Analice cada tema antes de contestar.

ÍTEM DE IDENTIFICACIÓN

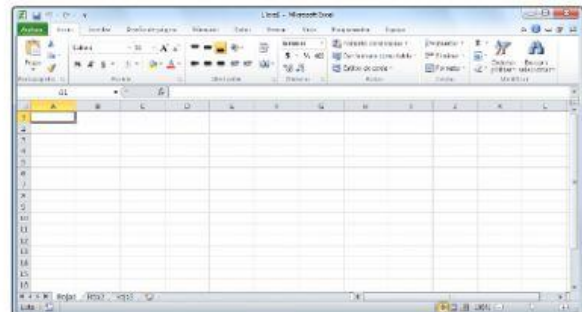
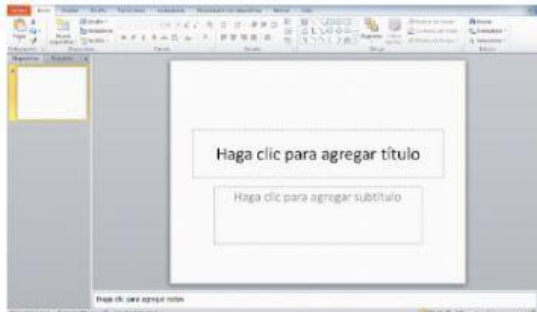
2 PUNTOS

1. SELECCIONA LA IMAGEN CORRECTA

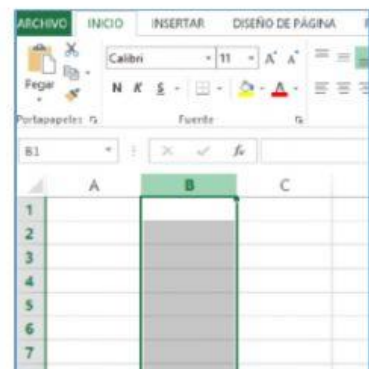
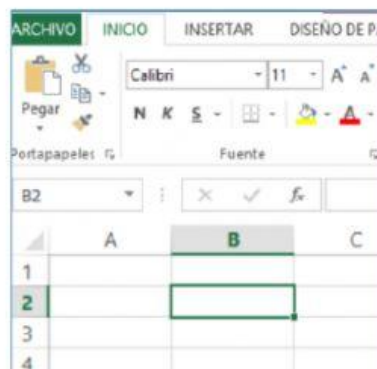
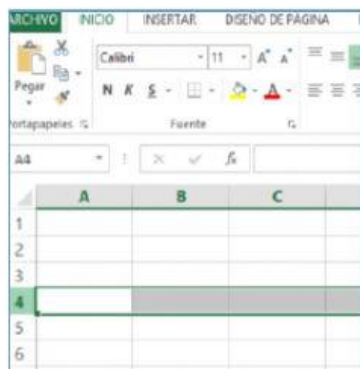
a) ¿Qué ícono pertenece a Microsoft Excel?



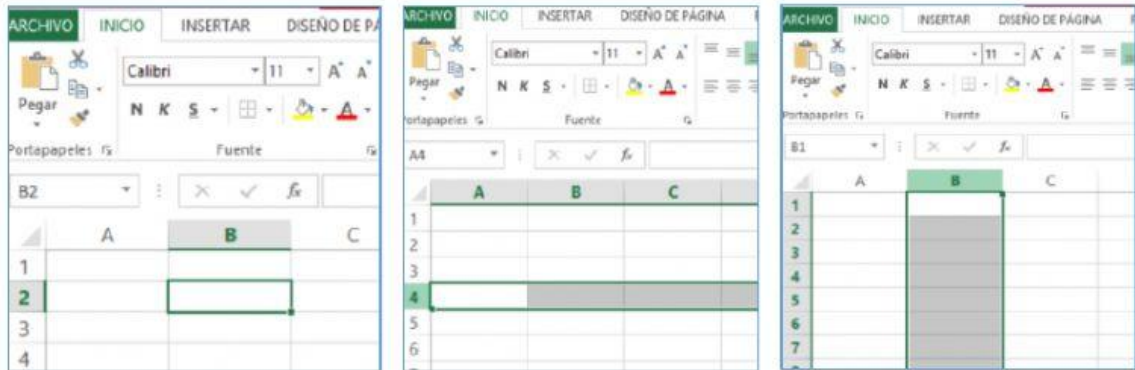
b) ¿Cómo es la interfaz de Microsoft Excel?



c) ¿Qué imagen representa una columna?



c) ¿Qué imagen representa una celda?



ÍTEM DE COMPLETAMIENTO

2 PUNTOS

2. LEE LOS ENUNCIADOS Y ESCOGE LA OPCIÓN CORRECTA

2.1 Excel es un programa _____ del paquete de Microsoft _____.

- a) conocido – Windows
- b) popular – Office
- c) desconocido - Office

2.2 Excel permite manipular _____ y _____.

- a) números – fotos
- b) datos – números
- c) videos - carpetas

2.3 Todas las fórmulas _____ con el signo _____.

- a) comienzan - ?
- b) terminan – #
- c) comienzan - =

2.4 Excel es conocido por su poderosa _____.

- a) hoja de dibujo
- b) hoja de borrados
- c) hoja de cálculo

ÍTEM DE RELACIÓN DE CORRESPONDENCIA

2 PUNTOS

4. ESCRIBE UNA LETRA EN LOS ESPACIOS VACÍOS PARA RELACIONAR CADA DEFINICIÓN CON SU NOMBRE.

- A** Conjunto de celdas en sentido vertical
- B** Unidades básicas de una hoja de cálculo
- C** Conjunto de celdas seleccionada de una hoja de cálculo
- D** Conjunto de celdas en sentido horizontal

- Columnas
- Filas
- Celdas
- Rango

ÍTEM DE EJECUCIÓN DE APRENDIZAJE

4 PUNTOS

5. LEE EL EJERCICIO Y ESCRIBE LA FÓRMULA CORRECTA PARA RESOLVER LO.

5.1 ¿Qué fórmula utilizarías para sumar todos esos datos?

	A	B	C	D	E	F
1			2			
2	10					12
3						
4				6		
5						
6						
7						
8						
9						

Respuesta:

5.2 ¿Qué fórmula utilizarías para restar estos datos?

	A	B	C	D	E	F
1						
2			85			
3			13			
4			2			
5						
6						
7						
8						
9						

Respuesta:

5.3 ¿Qué fórmula utilizarías para sumar estos datos?

	A	B	C	D	E
1					
2	10				
3	25				
4	69				
5					
6					
7					
8					
9					

Respuesta:

5.3 ¿Qué fórmula utilizarías para restar estos datos?

	A	B	C	D	E	F
1				500		
2						
3						
4		100				
5						
6						
7						
8						

Respuesta:

DOCENTE Prof. Borbor Armendáriz Melany	COMISION PEDAGOGICA Ing. Yuliana Clemente P.	DIRECTOR Ing. Gabriel Medina D.