

NOME:

PROFESSORA:  2º ANO-

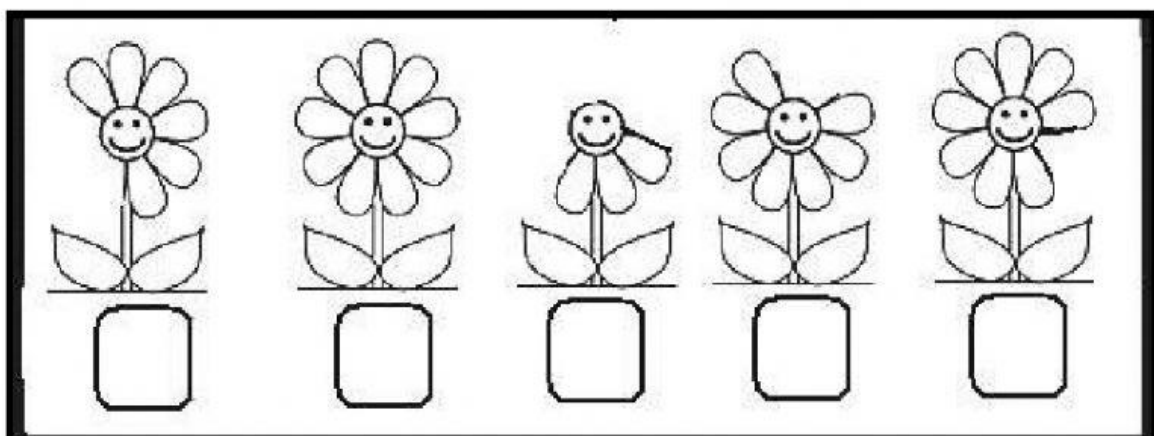
## ADIÇÃO E SUBTRAÇÃO



VAMOS MOSTRAR QUE VOCÊ JÁ SABE CONTAR? MAS ANTES, VAMOS RELEMBRAR UM POUQUINHO ASSISTINDO AO VÍDEO ABAIXO.



ESCREVA O NÚMERO DE PÉTALAS DE CADA FLOR.





COMPLETE OS QUADRADINHOS COM OS NÚMEROS FALTOSOS.

$8 + \square = 15$	$\square + 9 = 14$
$\square + 5 = 12$	$8 + \square = 15$
$7 + \square = 16$	$\square + 6 = 11$
$\square + 2 = 11$	$9 + \square = 12$
$3 + \square = 10$	$\square + 5 = 14$
$\square + 9 = 18$	$6 + \square = 16$
$8 + \square = 16$	$\square + 2 = 10$
$\square + 5 = 13$	$6 + \square = 13$
$8 + \square = 12$	$\square + 7 = 11$



ARRASTE OS NÚMEROS QUE FALTAM PARA QUE AS SOMAS  
RESULTEM EM 10:

0

1

2

3

4

5

6

7

8

9

$$\square + 4 = 10$$

$$\square + 2 = 10$$

$$\square + 7 = 10$$

$$\square + 5 = 10$$

$$\square + 9 = 10$$

$$\square + 3 = 10$$

$$\square + 8 = 10$$

$$\square + 1 = 10$$

$$\square + 6 = 10$$


$$\square + 10 = 10$$





CONTE COM MUITA ATENÇÃO.


Calcule






$$\begin{array}{|c|c|} \hline 5 & 9 \\ \hline + & 10 \\ \hline & \\ \hline \end{array}$$



$$\begin{array}{|c|c|} \hline 8 & 6 \\ \hline + & 12 \\ \hline & \\ \hline \end{array}$$


$$\begin{array}{|c|c|} \hline 2 & 4 \\ \hline + & 61 \\ \hline & \\ \hline \end{array}$$


$$\begin{array}{|c|c|} \hline 3 & 5 \\ \hline + & 33 \\ \hline & \\ \hline \end{array}$$


$$\begin{array}{|c|c|} \hline 6 & 7 \\ \hline + & 01 \\ \hline & \\ \hline \end{array}$$


$$\begin{array}{|c|c|} \hline 4 & 5 \\ \hline + & 41 \\ \hline & \\ \hline \end{array}$$


$$\begin{array}{|c|c|} \hline 9 & 7 \\ \hline + & 02 \\ \hline & \\ \hline \end{array}$$





OBSERVE BEM OS DESENHOS E CONTE COM MUITA ATENÇÃO. PREENCHA OS QUADRADINHOS DE ACORDO COM O SE PEDE.

	ERAM <input type="text"/> TIRARAM <input type="text"/> FICARAM <input type="text"/>	CONTINHA: <b>10 - 5 =</b> <input type="text"/>
	ERAM <input type="text"/> TIRARAM <input type="text"/> FICARAM <input type="text"/>	CONTINHA: <b>9 - 4 =</b> <input type="text"/>
	ERAM <input type="text"/> TIRARAM <input type="text"/> FICARAM <input type="text"/>	CONTINHA: <input type="text"/> - 8 = <input type="text"/>
	ERAM <input type="text"/> TIRARAM <input type="text"/> FICARAM <input type="text"/>	CONTINHA: <input type="text"/> - <input type="text"/> = <input type="text"/>
	ERAM <input type="text"/> TIRARAM <input type="text"/> FICARAM <input type="text"/>	CONTINHA: <b>8 -</b> <input type="text"/> = <input type="text"/>



CONTE COM MUITA ATENÇÃO. NÃO SE ESQUEÇA DE USAR SEUS DEDINHOS.

DEZENA	UNIDADE	DEZENA	UNIDADE	DEZENA	UNIDADE	DEZENA	UNIDADE	DEZENA	UNIDADE
5	0	6	7	9	8	4	1	3	9
-3	0	-6	4	-5	5	-3	0	-2	6
DEZENA	UNIDADE	DEZENA	UNIDADE	DEZENA	UNIDADE	DEZENA	UNIDADE	DEZENA	UNIDADE
2	4	8	8	1	4	5	9	6	3
-1	2	-7	6	-1	3	-4	8	-4	2

DEZENA	UNIDADE	DEZENA	UNIDADE	DEZENA	UNIDADE	DEZENA	UNIDADE	DEZENA	UNIDADE
6	5	8	3	7	9	1	4	9	0
-2	1	-7	0	-6	4	-0	4	-5	0
DEZENA	UNIDADE	DEZENA	UNIDADE	DEZENA	UNIDADE	DEZENA	UNIDADE	DEZENA	UNIDADE
5	7	6	6	4	8	3	3	8	7
-4	3	-4	6	-2	5	-2	1	-6	4