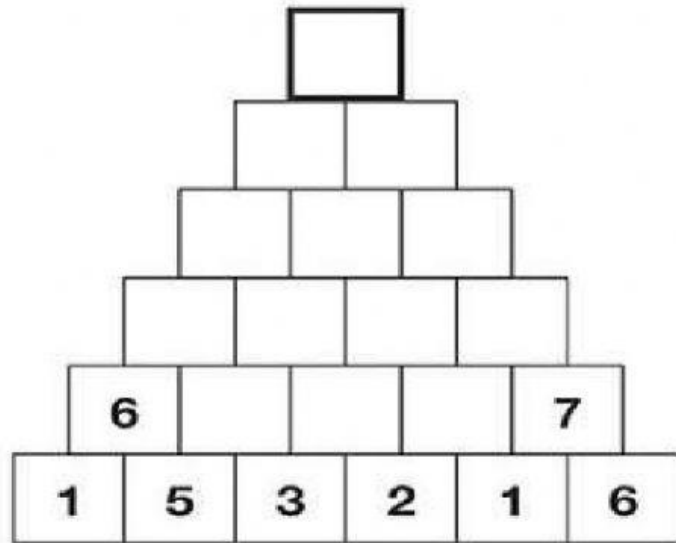


¡PON EN PRÁCTICA TODO LO APRENDIDO EN CÁLCULO!

1- Rellena la pirámide, ya sabes que debemos sumar las bases para obtener el número de arriba. Haz clic con el ratón en cada casilla y escribe el número con el teclado.



SI NECESITAS AYUDA PARA RECORDAR CÓMO SE SUMA EN HORIZONTAL HAZ CLIC ENCIMA DE LA NIÑA Y TE LO EXPLICO.



2- Vamos a buscar a los amigos del 100, sólo tienes que saltar decenas para averiguar cuántas te faltan. Haz clic con el ratón en cada casilla y escribe el número con el teclado.



SI NECESITAS QUE TE LO EXPLIQUE HAZ CLIC EN LA IMAGEN DE LA NIÑA Y HAGO EL PRIMERO CONTIGO.

100	
30	

100	
	40

100	
70	

100	
60	











100	
80	

100	
100	

3- Las ovejas se han escapado y se ha organizado una buena. Hay que devolver a cada una a su lugar. Teresa sabe que las de su granja suman 50, así que ayúdala y haz clic sólo en las tuyas.



SI NECESITAS AYUDA PARA RECORDAR CÓMO SE SUMA EN HORIZONTAL HAZ CLIC ENCIMA DE LA NIÑA Y TE LO EXPLICO.



4- Opera en vertical. Haz clic con el ratón en cada casilla y escribe el número con el teclado.



SI NECESITAS AYUDA PARA RECORDAR CÓMO SE SUMA EN VERTICAL HAZ CLIC ENCIMA DE LA NIÑA Y TE LO EXPLICO.

$$\begin{array}{r} 23 \\ +18 \\ \hline \end{array}$$

$$\begin{array}{r} 46 \\ +26 \\ \hline \end{array}$$

$$\begin{array}{r} 54 \\ +39 \\ \hline \end{array}$$

$$\begin{array}{r} 39 \\ +53 \\ \hline \end{array}$$

$$\begin{array}{r} 47 \\ +35 \\ \hline \end{array}$$