

**INSUMO INDIVIDUAL
UNIDAD 1**

El planeta Tierra es mi hogar, y soy responsable de preservarlo y cuidarlo.

SEXTO DE BÁSICA "A" "B" "C" "D"

2021-2022

AREA: (CN) Ciencias Naturales

SEXTO DE BÁSICA "A" "B" "C" "D"

APELLIDOS Y NOMBRE:

FECHA:/...../2021

LOS SERES VIVOS Y SU AMBIENTE

Explicar, con uso de las TIC y otros recursos, las características de los **animales invertebrados seres vivos**, describirlas y clasificarlos de acuerdo a sus semejanzas y diferencias. (Ref. CN.3.1.1.)

Indicador de logro: Determina los diferentes grupos de los reinos de la naturaleza.

- 1. Los reinos en que se agrupan los seres vivos son cinco, escoge la respuesta correcta que contemplen estos reinos: 1P**
- a. Reino animal, vegetal, plantae y fungi.
 - b. Reino vegetal, protocista y plantae.
 - c. Reino plantae, monera, proctista y animal.
 - d. Reino animal, vegetal, fungi, monera y protocista.






Indicador de logro: Identifica los grupos de los Reinos de la Naturaleza mediante sus características.

- 2. Lee las características de los diferentes grupos de los Reinos de la Naturaleza y escoge V si es verdadero o F si es falso. (0,50 c /u) 2P**

CARACTERÍSTICAS	RESPUESTAS	
a. Las plantas pertenecen al reino plantae, por lo tanto, son autótrofas, es decir fabrican su propio alimento a través de la fotosíntesis utilizando la luz solar, el agua y el dióxido de carbono.	V	F
b. El reino fungi se dividen en dos grupos: archaea y bacteria.	V	F
c. En el reino fungi sus microorganismos son heterótrofos, es decir se alimentan de otros animales y sus restos.	V	F
d. La especie humana es parte del reino animal, en la clase de los mamíferos.	V	F

Indicador de logro: Relaciona cada uno de los reinos de la naturaleza con sus características.

3. Relaciona los diferentes seres vivos con el reino de la naturaleza según sus corresponda.
(0,40 c /u) 2P

a.		Reino monera
b.		Reino protocista
c.		Reino fungi
d.		Reino animal
e.		Reino plantae

Indicador de logro: Establece normas de protección y cuidado ante amenazas de su entorno de los reinos de la naturaleza.

4. Escoge la afirmación correcta que corresponda a las normas de protección y cuidado ante amenazas de su entorno de los Reinos de la Naturaleza.
(0,50 c /u) 1P

- a. Establecer fechas para poder cazar animales en peligros de extinción.
- b. Delimitar las áreas protegidas y reservas naturales.
- c. Evitar la deforestación de bosques.
- d. Evitar la contaminación de los recursos naturales.
- e. Contribuir al aumento de tala de árboles.
- f. Restaurar los ecosistemas.

Indicador de logro: Reconoce características de los seres vivos para agruparlos en los Reinos de la Naturaleza.

5. Existe cinco reinos de la naturaleza: monera, plantae, fungi, monera y protocista. Lee las siguientes preguntas y responde. (0,40 c /u) 2P

- a. El gusano pertenece al reino..... porque.....
- b. El conejo es un mamífero por lo tanto pertenece al reino..... porque.....
- c. Las setas conocidas como hongos pertenecen al reino..... son heterótrofos porque
- d. Dentro del reino Plantae existen plantas como.....las mismas que se caracterizan por ser autótrofas porque.....
- e. El reino monera se divide en..... y

Indicador de logro: Argumenta la importancia de los Reinos de la naturaleza para el planeta Tierra.

6. Argumenta en un párrafo de cuatro líneas la importancia de cuidar y conservar los Reinos de la Naturaleza para el ser humano. 2P

ELABORADO	REVISADO	APROBADO: COORDINADORA ACADÉMICA	VISTO BUENO SUBDIRECTORA
DOCENTE(S): MSc. Marilí Sotalin MSc. Maribel Vinuesa	NOMBRE: MSc. Marilí Sotalin	NOMBRE: MSc. Fernanda Figueroa- Lic. Andrea Duran	NOMBRE: MSc. Fernanda Figueroa
Firma:	Firma:	Firma:	Firma:
Fecha: Del 20 al 24 de septiembre del 2021	Fecha: Del 20 al 24 de septiembre del 2021	Fecha: Del 20 al 24 de septiembre del 2021	Fecha: Del 20 al 24 de septiembre del 2021