



MICROSOFT EXCEL

INSTRUCCIONES

Selecciona el nombre correcto de cada celda.
Observa el ejemplo.

Ejemplo

B5

	A	B	C	D	E
1					
2					
3					
4					
5					
6					
7					
8					
9					
10					
11					
12					
13					
14					

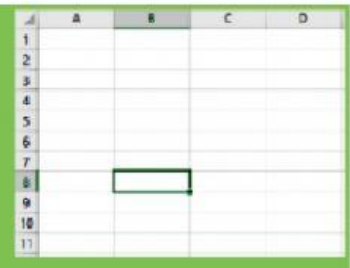

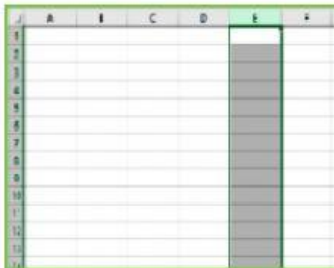




MICROSOFT EXCEL

INSTRUCCIONES

Observa las siguientes imágenes y coloca el nombre correspondiente en cada cuadro.



CELDA

COLUMNA

FILA





MICROSOFT EXCEL

INSTRUCCIONES

Seleccioná la fórmula correcta para resolver la suma y la resta de las siguientes imágenes.

RESTA

	A	B	C	D
1				
2				
3				
4				
5			234	
6			123	
7				
8				

=B4+B5

SUMA

	A	B	C	D
1				
2				
3				
4			126	
5			78	
6				
7				

=C5-C6





MICROSOFT EXCEL

INSTRUCCIONES

Tipos de gráficos.
Colocá el título en cada gráfico

bARRAS

CiRCULAR

COLUMNAS

Lineas

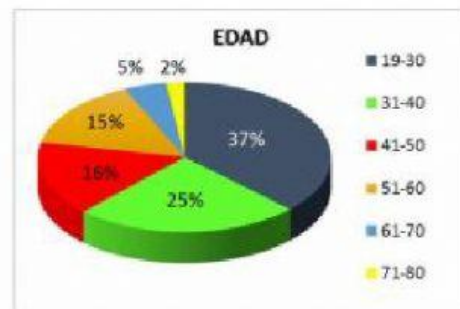
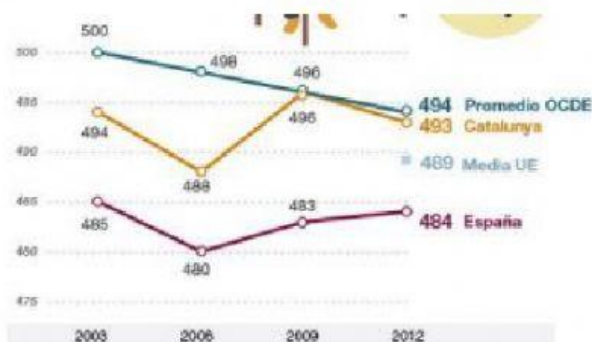
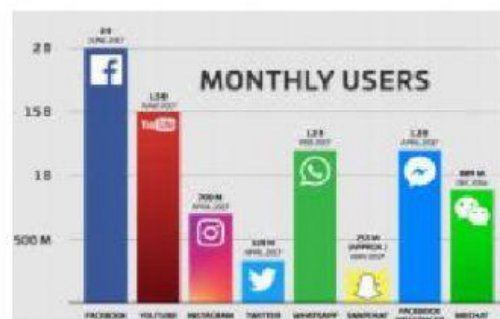
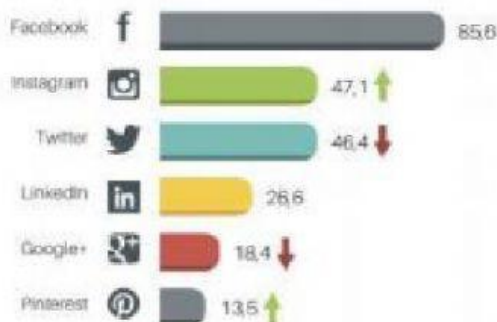


Gráfico 1. Edad de la población Fuente: Elaboración propia

