

HABILIDADES MATEMÁTICAS PARTE 2

Nombre: _____

Grado: _____

Fecha: _____

1 Escriba cómo se leen los siguientes números.




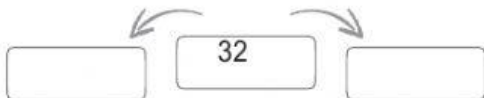


87

43

75

62

2 Complete con el antecesor y el sucesor de cada número.



3

Escriba el número que se representa en el ábaco.

