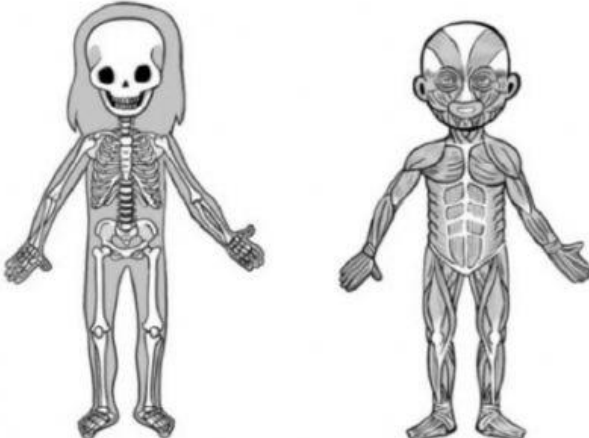


EVALUACIÓN INICIAL CIENCIAS 3

Une con flechas el nombre con el lugar del cuerpo que le corresponde.

cráneo		bíceps
húmero		pectorales
costillas		abdominales
columna vertebral		gemelos
fémur		
tibia		

Completa las frases con las palabras siguientes.

carnívoros – herbívoros – invertebrados – ovíparos – vivíparos – vertebrados

- Los animales _____ nacen del vientre de su madre.
- Los _____ se alimentan de otros animales.
- Los animales _____ ponen huevos.
- Los _____ tienen un esqueleto interno formado por huesos.
- Los _____ se alimentan de plantas.
- Los _____ no tienen un esqueleto formado por huesos.

Escribe cada animal en el grupo que le corresponda.



mosca



serpiente



ciclido



rana



pato



zorro

Mamíferos: _____

Aves: _____

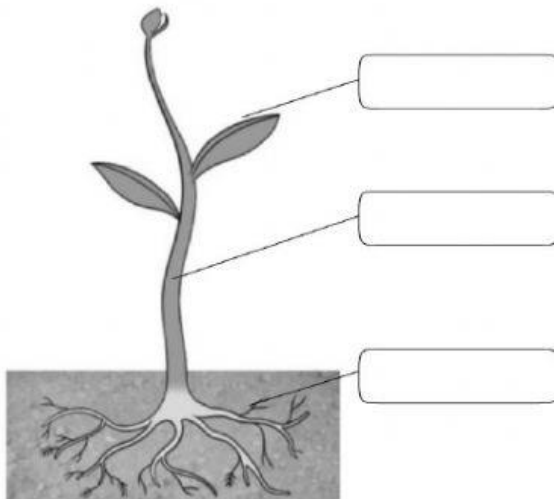
Insectos: _____

Reptiles: _____

Anfibios: _____

Peces: _____

Escribe el nombre de cada parte de una planta y relaciónala con su función.



- Sujeta la planta al suelo y absorbe agua y otras sustancias.
- Sirve de soporte para la planta y transporta agua y otras sustancias.
- Sirve a la planta para fabricar su alimento.

Escribe cada órgano junto con el aparato que corresponda.

tráquea estómago esófago boca nariz pulmones

Diagram 1 (Left): Shows the digestive system. Labels: [] (mouth), [] (esófago), [] (estómago).

Diagram 2 (Right): Shows the respiratory system. Labels: [] (nariz), [] (boca), [] (pulmones).


Observa los dibujos y completa las oraciones con estas palabras.

agua - vapor - hielo gas - sólido - líquido



1. Sofía pone unos cubitos de _____ en un plato. El hielo es un _____
2. Con el calor del Sol, el hielo se derrite y se transforma en _____, que es un _____
3. El agua se convierte en _____, que es un _____

Enumera los lugares de la naturaleza en los que podemos encontrar agua.
Después, escríbelos en el dibujo.



Une estos elementos con el paisaje en el que puedes encontrarlos.

playa ▶

montaña ▶

llanura ▶

Paisaje de costa

Paisaje de montaña

Paisaje de llanura

¿Con qué mides el tiempo? Une.

horas ▶

meses ▶

Calendario

Reloj

Ordena cronológicamente las siguientes actividades diarias. Escribe 1, 2, 3, 4, 5.

- Ceno y me acuesto pronto.
- Desayuno y me preparo para ir al colegio.
- Salgo de casa y voy al colegio.
- Meriendo y hago los deberes.
- Me levanto de la cama.