



Institución Educativa Privada
"Leónidas Yerovi"

Examen Virtual Agosto

2021

Razonamiento Matemático

Nombres y Apellidos :

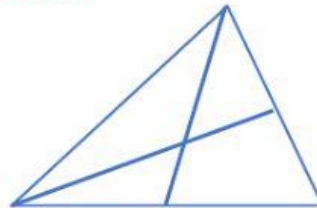
Fecha :

Grado : 4to

Nivel : Secundaria

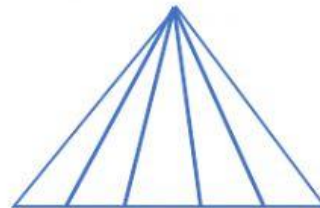
1) ¿Cuántos triángulos hay, en la Figura siguiente?

- a) 4 b) 6
c) 8 d) 10




2) ¿Cuántos triángulos hay, en la Figura siguiente?

- a) 5 b) 15
c) 10 d) 20

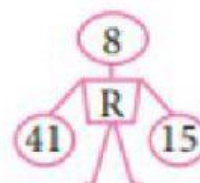
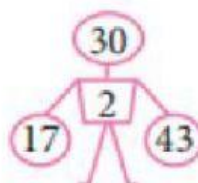
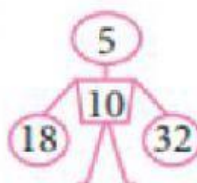


3) ¿Cuántos Cuadrados Regulares hay en la siguiente figura?

- a) 10 b) 20
c) 30 d) 40



4) Determinar el Valor de R



- a) 3 b) 5 c) 7 d) 11

Profesor : Hitler Hidalgo Ruiz