



CENTRO EDUCATIVO PARTICULAR "SIGLO XXI"

"Educación de Calidad con Valores y Liderazgo"
Dirección: Calle Alfredo Chávez N1-71 y calle Quito, Sector La Cruz.
E-mail: 17h03005@gmail.com / Teléfono: 02-2-387- 798



El Quinche - Ecuador

EVALUACIÓN DIAGNÓSTICA DE MATEMÁTICAS TERCER AÑO DE EDUCACIÓN GENERAL BÁSICA

DOCENTE: Lcda. Paola Imbaquingo












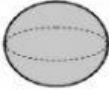
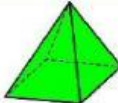


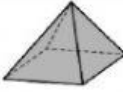




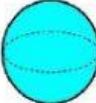



AÑO LECTIVO: 2021-2022

NOMBRE Y APELLIDO:.....

FECHA.....

DCD. Clasificar los cuerpos geométricos según sus propiedades.

1. Relacione el cuerpo geométrico con el objeto que tiene la misma forma. (1P)

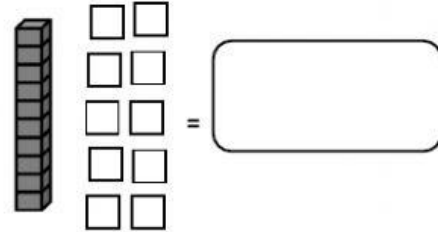
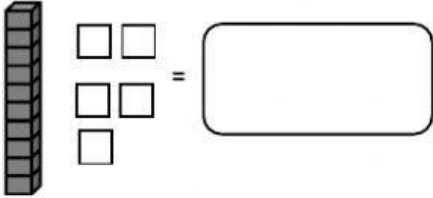
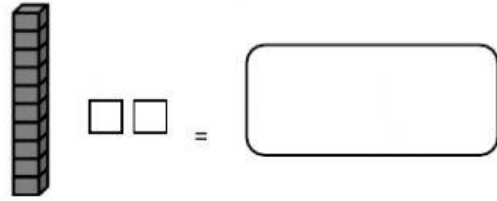

DCD. DIFERENCIAR CANTIDADES Y ASOCIARLAS CON NÚMEROS NATURALES HASTA EL 90

2. Seleccione el signo mayor que o menor que, o igual según corresponda. (1P)

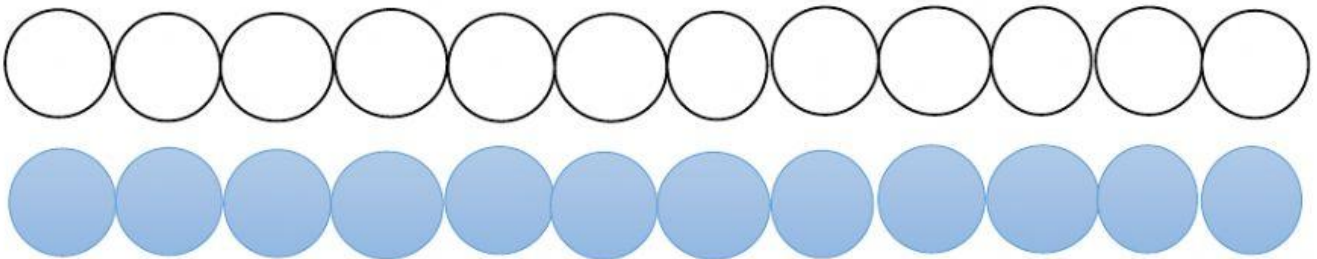
45	<input type="text"/>	29	<input type="text" value=">"/>	<input type="text" value="="/>
32	<input type="text"/>	21	<input type="text" value="<"/>	<input type="text" value=">"/>
20	<input type="text"/>	20		
10	<input type="text"/>	11		

DCD. Representar escribir y leer decenas completas en forma concreta, gráfica y simbólica.

4. Cuente las unidades decenas y escriba el número que corresponda dentro del recuadro. (1p)



5. Pinta los círculos hasta completar una decena (1P)



6. Relacione con una línea las decenas y las unidades correspondientes(1p)

10 unidades	30 unidades	50 unidades	70 unidades	90 unidades	20 unidades
-------------	-------------	-------------	-------------	-------------	-------------

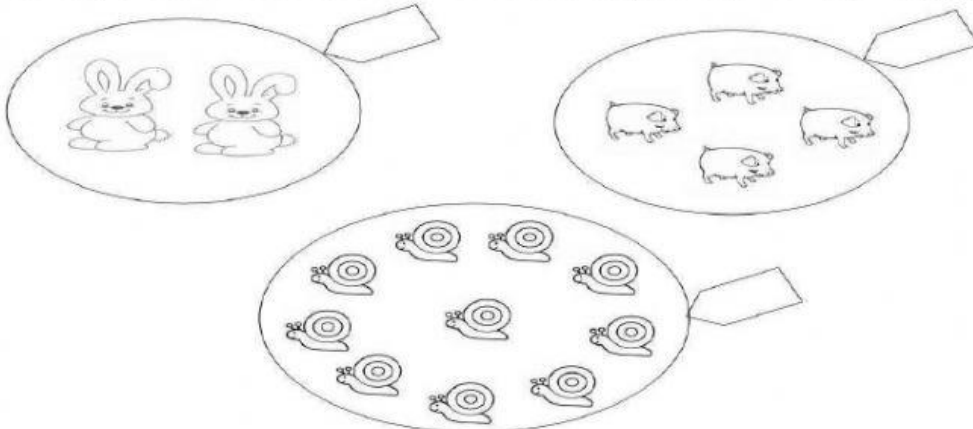
3 decenas	1 decena	7 decenas	9 decenas	5 decenas	2 Decenas
-----------	----------	-----------	-----------	-----------	-----------

DCD. Contar cantidades del 0 – 90 para verificar estimaciones en grupos de 10 en 10.


7. Complete la secuencia numérica hasta el número 100. (1p)

10.....30..... 5070..... 90


8. Cuente y escriba el número de elementos de cada conjunto según corresponda.(1p)



5



16



10. Realice las siguientes sumas y restas (1p)

214	623	163	986	574	179
+784	+464	+ 235	-345	-214	-168