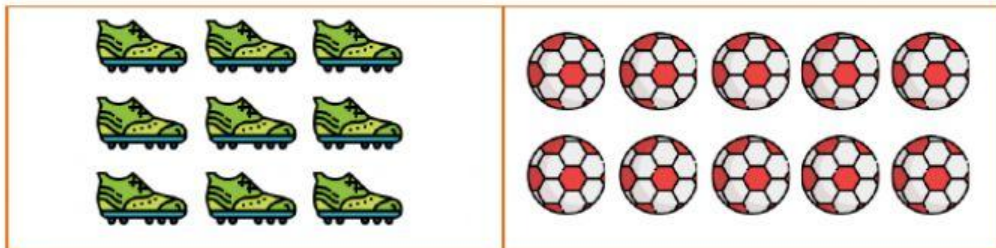







Chọn nhóm vật có số lượng nhiều hơn trong các nhóm sau:



Tích vào câu đúng.

Số  nhiều hơn số .

Số  nhiều hơn số .

Số  ít hơn số .

Số  nhiều hơn số .

Số  bằng số .

Số  nhiều hơn số .



Chọn đáp án đúng:

a) Chọn thêm ghế để số ghế **nhiều hơn** số bàn:

A.

B.

b) Chọn đáp án nào để số con gấu **ít hơn** số hũ mật?

A.

B.

c) Cần gạch bớt bao nhiêu con sâu để số chim **nhiều hơn** số sâu?

A.

B.

C.

Cô chúc con có những giờ tự học vui vẻ!