

<b>SDN SEMANAN 07 PETANG</b> <b>PENILAIAN TENGAH SEMESTER</b> <b>TAHUN PELAJARAN 2020/2021</b>		Nama :
Mata Pelajaran : Tema 2 (Subtema 1 &2) Kelas : I (Satu) Waktu : 90 menit Tanggal :		No. Absen :
		Nilai :

**I. Berikan tanda silang (x) pada jawaban yang benar !**

- Ketika makan hendaknya menggunakan tangan...
  - Kiri
  - Kanan
  - kanan dan kiri
  - a dan c
- Agar mendapatkan tubuh yang bersih kita harus...
  - Mandi ketika panas
  - Mandi dengan senang
  - Mandi seminggu sekali
  - Mandi dengan teratur
- Lengkapi kalimat- di bawah ini dengan kata yang tepat berdasarkan gambar...

Beni menendang \_\_\_\_\_ ke dalam gawang.



- Bola
  - Udin
  - Kaki
  - Orang
- Apa yang di lakukan setelah bermain di luar rumah...
    - Mencuci tangan dan kaki
    - Mencuci tangan dan kepala
    - Mencuci tangan dan wajah
    - Mencuci tangan dan baju
  - Sesuatu yang tidak boleh di lakukan pada saat bermain adalah..
    - Curang
    - baik
    - Bersama
    - kompak
  - Pikiran yang sehat terletak dalam badan yang ...
    - Sehat
    - Cantik
    - Indah
    - Baik
  - Pola makan sehat mencegah penyakit...
    - Hati
    - Jantung
    - Berat
    - Ringan

8. Kuku yang panjang tidak baik untuk...

- a. Kesehatan
- b. kehidupan
- c. Kecerdasan
- d. Keindahan

9. Hitung jumlah bola yang ada di bawah ini!



- a. 8
- b. 6
- c. 4
- d. 10

10. Dayu membawa 5 kok untuk bermain bulu tangkis. Lani membawa 3 kok. Berapakah jumlah kok yang dibawa Dayu dan Lani

- a. 8
- b. 6
- c. 4
- d. 10

11. Jumlah anak yang terdapat pada gambar si bawah ini adalah...



- a. 5
- b. 7
- c. 9
- d. 6

12. Jumlah kok yang terdapat pada gambar adalah...



- a. 8
- b. 10
- c. 9
- d. 7

13. Judul dari lagu di bawah ini adalah...

Ruri adalah abangku  
rajin dan senang belajar  
Dengan menyandang tas di bahu  
riang menuju sekolah

- a. Ruri Abangku
- b. Abangku Ruri
- c. Ruri
- d. Abangku

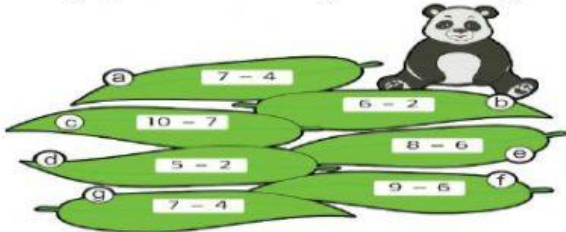
14. Kata yang tepat untuk syair lagu “Kepala Pundak Lutut.....” adalah

- a. Tangan
- b. kaki
- c. Lengan
- d. Tubuh

15. Ibu membuat 10 potong kue untuk adik dan kakak. Adik makan 3 potong. Berapakah jumlah kue untuk kakak...



- a. 5  
b. 4  
c. 6  
d. 7
16. Hanya pucuk bambu dengan hasil hitungan 3 yang dimakan oleh panda .




Pucuk bambu yang dimakan panda ini adalah \_\_, \_\_, \_\_, \_\_, dan \_\_.

- a. a, c, d, f, g  
b. a, c, b, f, g  
c. a, c, d, b, g  
d. a, c, d, f, b
17. Di ruang musik ada 4 buah pianika, lalu pak Udin membeli lagi sebanyak 10 buah. Berapakah total pianika yang ada di sekolah ?

- a. 12  
b. 14  
c. 16  
d. 13

18. Perhatikan gambar apel di bawah ini !



Sisa apel yang belum dimakan adalah...

- a. 2  
b. 4  
c. 1  
d. 3
19. Lengkapi kalimat di bawah ini sesuai dengan gambar!

Edo bermain \_\_\_\_\_ bersama teman-temannya.



- a. berlari  
b. kasti  
c. berenang  
d. kasti

20. Lengkapi kalimat di bawah ini sesuai dengan gambar!

Lani \_\_\_\_\_ lebih cepat daripada kawan-kawannya.



- a. berlari
- b. kasti
- c. berenang
- d. lompat

II. Isilah titik titik dengan jawaban yang tepat !

- 21. Sebutkan sikap yang baik terhadap adik!
- 22. Disajikan soal, siswa mampu menyebutkan hal-hal yang dilakukan ketika makan Bersama adik.
- 23. Anggota tubuh apa saja yang terdapat di lagu “ Kepala pundak lutut kaki ?
- 24. Lagu di bawah ini bercerita tentang apa?

**Sayang Semuanya**

Ciptaan Bu Kasur

Satu satu aku sayang ibu  
Dua dua juga sayang ayah  
Tiga tiga sayang adik kakak  
Satu dua tiga sayang semuanya



- 25. Ketika bermain kita tidak boleh bersikap...
- 26. Ceritakan apa yang kalian ketahui tentang gambarbenda di bawah ini!



- 27. Perhatikan jumlah benda pada gambar! Tulis bilangan yang tepat!



28. Perhatikan jumlah benda pada gambar! Tulis bilangan yang tepat!



Lengkapi dengan kata-kata dari dalam kotak!

29. Dayu senang \_\_\_\_\_ bersama sahabatnya.

30. Sahabat membuat hari Dayu \_\_\_\_\_.

**sahabat   senang   beruntung**  
**menyenangkan   bermain**