
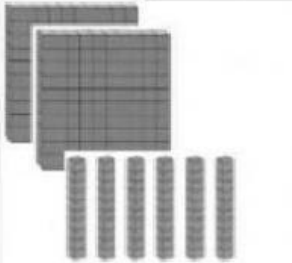
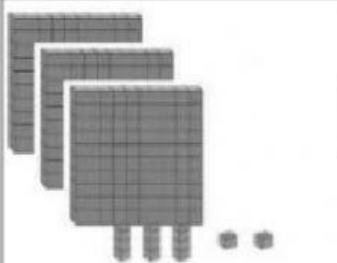

 <p>Ministerio de Educación</p>	 <p>UNIDAD EDUCATIVA AREONAUTICA "ELI LIUT"</p>	<p>AÑO LECTIVO: 2021 - 2022</p>	
<p>EVALUACIÓN DE DIAGNÓSTICO</p>			
<p>DOCENTE: Miryan Quishpe</p>	<p>ÁREA MATEMÁTICA</p>	<p>GRADO/NIVEL 4to de Básica</p>	<p>JORNADA Matutina</p>
<p>ESTUDIANTE:</p>		<p>FECHA:</p>	

1.- Identifica, escribe en números y letras las siguientes representaciones en base 10.

 <p>Ejemplo</p>	 <p>Ejercicio 1</p>	 <p>Ejercicio 2</p>
<p>260</p>	<input type="text"/>	<input type="text"/>

Se escribe:

--	--	--

2.- Escribe la descomposición de los siguientes números.

EJEMPLO: 867

8C	+	6D	+	7U
----	---	----	---	----

EJERCICIO 1: 954

	+		+	
--	---	--	---	--

3.- Completa las series numéricas en forma ascendente y descendente

620	<input style="width: 40px;" type="text"/>	640	<input style="width: 40px;" type="text"/>	660	<input style="width: 40px;" type="text"/>	680	<input style="width: 40px;" type="text"/>
999	996	<input style="width: 40px;" type="text"/>	990	987	<input style="width: 40px;" type="text"/>	<input style="width: 40px;" type="text"/>	978
705	710	<input style="width: 40px;" type="text"/>	720	<input style="width: 40px;" type="text"/>	730	<input style="width: 40px;" type="text"/>	740

4.- Escribe mayor, menor o igual según corresponda (>,<=)

457	<input style="width: 40px;" type="text"/>	963
956	<input style="width: 40px;" type="text"/>	721
567	<input style="width: 40px;" type="text"/>	328
739	<input style="width: 40px;" type="text"/>	739
136	<	298

5.- Realizar las siguientes sumas

$$\begin{array}{r} 341 \\ + 172 \\ \hline \end{array}$$

$$\begin{array}{r} 298 \\ + 463 \\ \hline \end{array}$$

$$\begin{array}{r} 430 \\ + 268 \\ \hline \end{array}$$

$$\begin{array}{r} 725 \\ + 286 \\ \hline \end{array}$$

6.- Realizar las siguientes restas

6	0	0
3	1	0
<input style="width: 30px;" type="text"/>	<input style="width: 30px;" type="text"/>	<input style="width: 30px;" type="text"/>

4	2	7
1	4	4
<input style="width: 30px;" type="text"/>	<input style="width: 30px;" type="text"/>	<input style="width: 30px;" type="text"/>

5	8	5
1	2	8
<input style="width: 30px;" type="text"/>	<input style="width: 30px;" type="text"/>	<input style="width: 30px;" type="text"/>

4	3	1
3	4	5
<input style="width: 30px;" type="text"/>	<input style="width: 30px;" type="text"/>	<input style="width: 30px;" type="text"/>

7.- Relacione correctamente, el numeral y su escritura.

563	novecientos veinte y uno
764	setecientos sesenta y cuatro
921	quinientos sesenta y tres

8.- Realizar las siguientes multiplicaciones

$$\begin{array}{r} 255 \\ \times 4 \\ \hline \end{array}$$

$$\begin{array}{r} 940 \\ \times 3 \\ \hline \end{array}$$

$$\begin{array}{r} 780 \\ \times 5 \\ \hline \end{array}$$

$$\begin{array}{r} 639 \\ \times 9 \\ \hline \end{array}$$