



Razonamiento Matemático

Nombres y Apellidos :

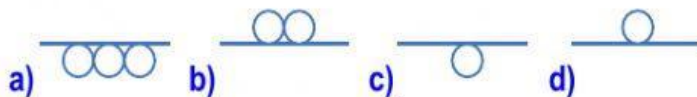
Fecha :

Grado : 3ero

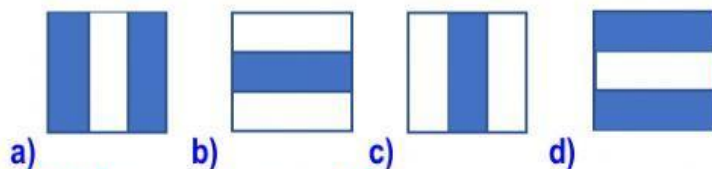
Nivel : Secundaria

Curso : Raz. Matemático

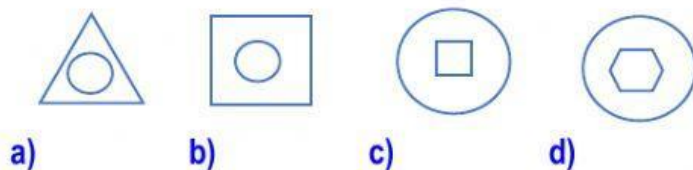
1) ¿Cuál de las figuras completa la serie?



2) ¿Qué figura debe ir en lugar del interrogante



3) ¿Qué figura corresponde?



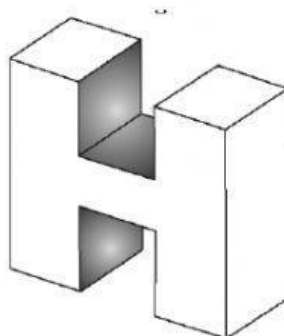
4) ¿Cuántas Caras tiene el siguiente Solido?

a) 10

b) 12

c) 14

d) 16



Prof. Hitler Hidalgo Ruiz