

LEMBAR KERJA PESERTA DIDIK (LKPD)
KELAS 3 SDN KAPUK 03 PAGI KAPUK CENGKARENG JAKARTA BARAT
TEMA 3 SUB TEMA 1 "BENDA DISEKITARKU"

NAMA :

HARI/TANGGAL :

MATERI : TEMA 3 SUB TEMA 1 "BENDA-BENDA DISEKITAR KITA"

PERHATIKAN GAMBAR BERIKUT!



Agar dapat menjawab pertanyaan-pertanyaan di bawah ini, kalian baca buku tema 3 halaman 2.

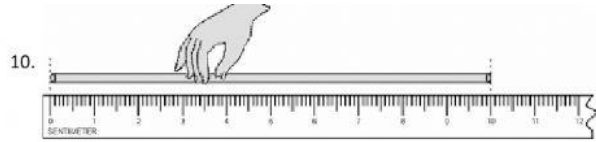
1. Segala sesuatu yang menempati ruang dan mempunyai masa disebut
2. Benda terbagi menjadi 2 yaitu benda dan benda
3. Dari gambar di atas yang termasuk benda adalah
4. Yang bukan termasuk benda dari gambar tersebut adalah
5. Sifat fisik benda dapat dikelompokkan berdasarkan
6. Pasangkan benda tersebut berdasarkan sifat fisiknya!

<input style="width: 100px; height: 20px;" type="text"/>	<input style="width: 100px; height: 20px;" type="text"/>	<input style="width: 100px; height: 20px;" type="text"/>
Berdasarkan Bentuknya	Berdasarkan Warnanya	Berdasarkan Ukurannya

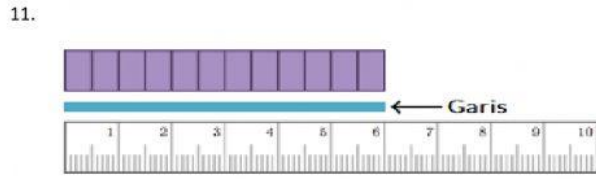
7. Jodohkan!
- | | |
|----------------------------|------------------------------------|
| Benda berdasarkan cirinya | Benda berdasarkan Jenisnya |
| Benda Hidup dan benda mati | Memiliki Massa dan menempati ruang |

8.

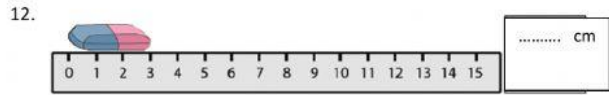
9.



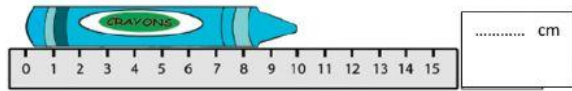
.....
cm




..... cm



..... cm



..... cm



..... cm