



URA


1. Jarri irudiaren azpian dagokion uraren egoera bakoitza:



LIKIDOA



GAS EGOERA



SOLIDOA

2. Esan egia edo gezurra den:

– Uraren kolorea urdin argia da.

Egia

Gezurra

– Urak ez du ez usainik ez zaporerik.

Egia

Gezurra

– Ura disolbatzaile ona da.

Egia

Gezurra

3. Bete hutsuneak:

- planetako ur guztiek osatzen duten geruza da.
- Berotasun behar du berotzeko, eta berotasun handia igortzen du hoztean.
- edateko, janaria-prestatzeko, dutxatzeko... erabiltzen dugu ura.
- soroak ureztatzeko erabiltzen da ura.
- industria produktuak egiteko, makinak hozteko... erabiltzen da ura.
- energia elektrikoa lortzeko erabiltzen da ura.