

RECTA NUMÉRICA DE FRACCIONES

Escribe la **Fracción Propia** que representa la recta numérica.

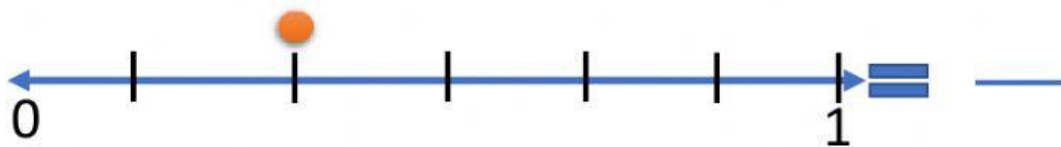

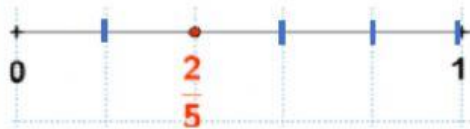
Fracciones propias:



- Para representar $\frac{1}{3}$ dividiremos la unidad en 3 partes como indica el denominador y tomamos 1 parte como indica el numerador.



- Para representar $\frac{2}{5}$ dividiremos la unidad en 5 partes y tomaremos 2.



Escribe el **número mixto** y luego la **fracción impropia** que se representa en la recta numérica.



Recuerda que las Fracciones impropias son números mixtos

$$\frac{5}{3} = 1\frac{2}{3}$$

Para ubicar en la recta debes considerar primero cuantos enteros tiene la recta y a partir del entero contar las divisiones y en qué número se encuentra la marca.

