



Asignatura: GEOMETRÍA		Grado: SEGUNDO		NOTA
VALORACIÓN DE CONTENIDOS DEL CUARTO PERÍODO 2020 – etapa virtual				
Estudiante:	Docente: YENNY CARVAJAL		Fecha: NOVIEMBRE	

TEMA: EL RELOJ

Puntaje del ejercicio

... / 1.0.

1º EJERCICIO: UNIR SEGÚN LA HORA QUE CORRESPONDA



03:30



11:35



10:20



10:45




08:05

TEMA: ÁREA

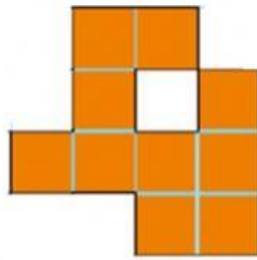
Puntaje del ejercicio

... / 1.0.

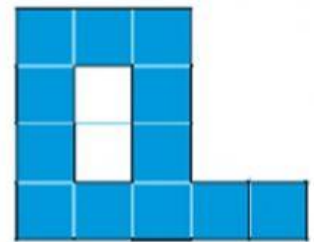
2º EJERCICIO: HALLA EL ÁREA DE LAS SIGUIENTES FIGURAS SEGÚN LA UNIDAD PATRÓN




Área= _____ 




Área= _____ 




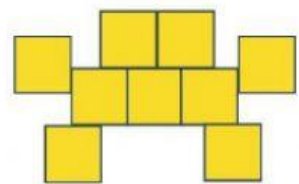
Área= _____ 



Área= _____ 



Área= _____ 



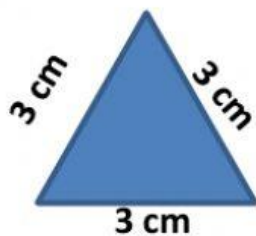
Área= _____ 

TEMA: PERÍMETRO

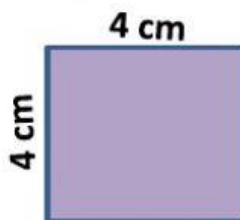
Puntaje del ejercicio

... / 1.0

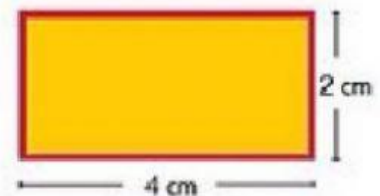
3º EJERCICIO: CALCULO EL PERÍMETRO DE CADA FIGURA



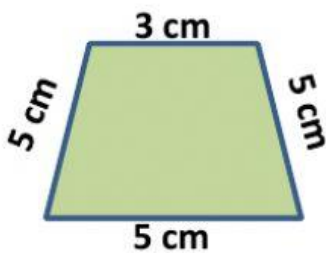
P= _____ cm



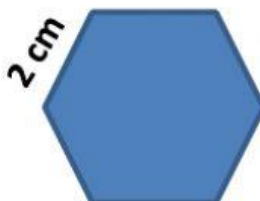
P= _____ cm



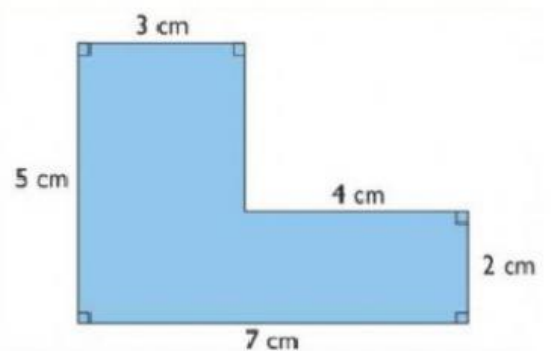
P= _____ cm



P= _____ cm



P= _____ cm



P= _____ cm

4º EJERCICIO: OBSERVO LOS VASOS Y SELECCIONA LA CAPACIDAD CORRECTA DE CADA GRUPO

32

16

24



32

16

24



20

8

24



20

8

24

TEMA: MASA

5º EJERCICIO: ORDENO LOS ALIMENTOS DE MAYOR A MENOR PESO, ESCRIBIENDO LOS NÚMEROS DESDE EL 1 PARA EL MAYOR, HASTA EL 5 PARA EL MENOR