



# LEMBAR KERJA PESERTA DIDIK

TEMA 3 PEDULI TERHADAP MAKHLUK HIDUP

SUBTEMA 1 HEWAN DAN TUMBUHAN DI  
LINGKUNGANKU

KELAS IV

NAMA :

NO ABSEN :

KELAS :

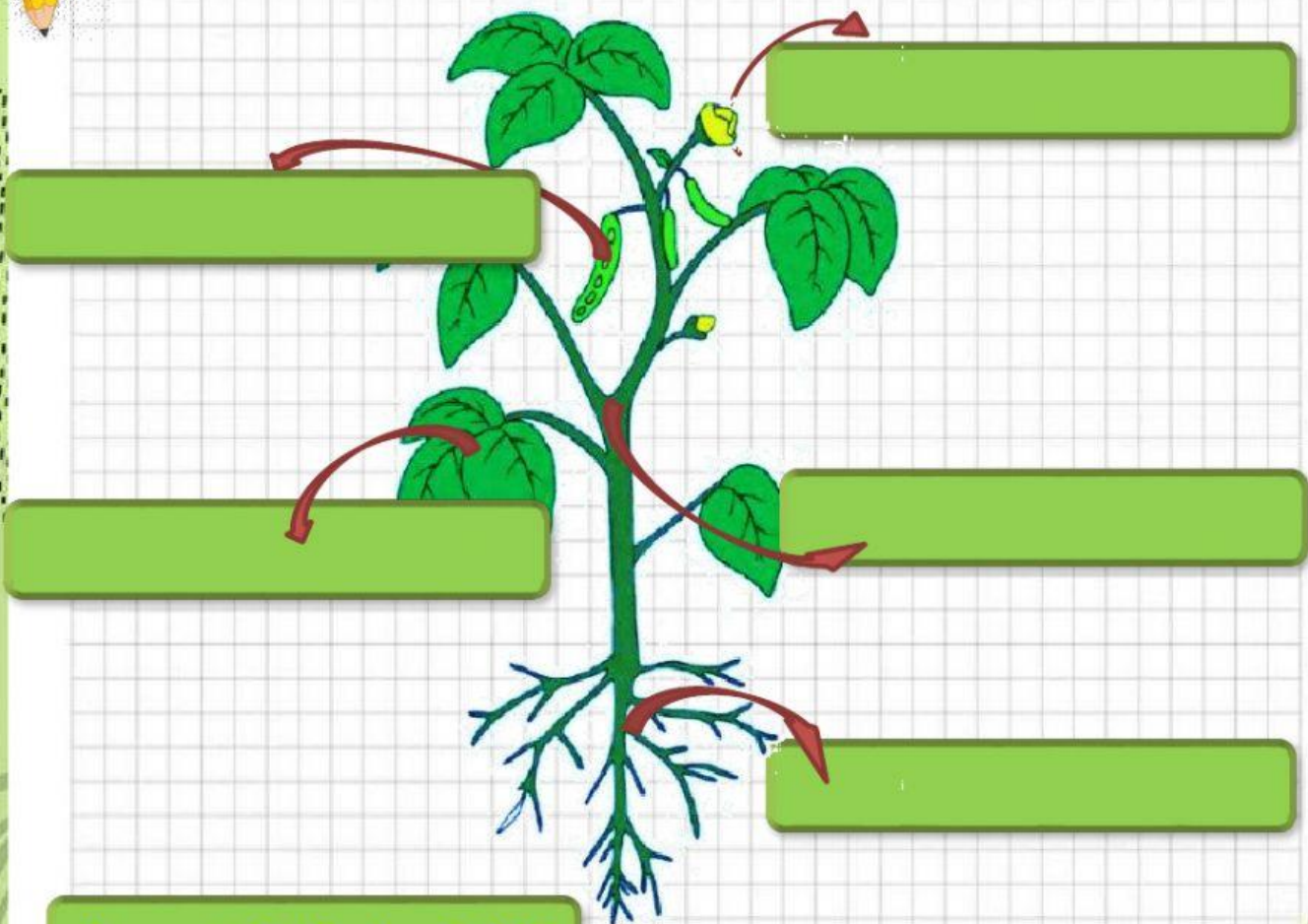




### Petunjuk Kegiatan:

1. Berdoalah sebelum mengerjakan!
2. Simaklah video pembelajaran pada Google Classroom dan bacaan pada buku paket tema 3 hal. 20!
3. Bacalah petunjuk dengan teliti sebelum menjawab soal!
4. Pahami soal, jika kurang jelas silakan soal dibaca ulang!

### A. Hubungkan bagian tumbuhan dengan fungsinya secara tepat!



Tempat Melindungi Biji


Penyokong Tubuh  
Tumbuhan

Menyerap Air dan Zat Hara











Alat Berkembangbiak

Tempat Terjadinya  
Fotosintesis





**B. Tentukan bagian tanaman (akar, batang, daun, bunga atau biji) berikut ini yang dapat dimanfaatkan dalam kehidupan sehari-hari!**

No	Gambar	Nama tanaman	Bagian tanaman yang dimanfaatkan
1.		Tebu	
2.		Tanaman turi	
3.		Padi	
4.		Seledri	
5.		Wortel	
6.		Bunga kol	
7.		Jagung	
8.		Jeruk	
9.		Sawi hijau	
10.		Singkong	

**Selamat Mengerjakan**