



ใบงานที่ 13

การออกแบบและเทคโนโลยี ชั้นมัธยมศึกษาปีที่ 1


1. ให้นักเรียนพิจารณารูปต่อไปนี้แล้วลากลงไปวางในตารางให้ถูกต้อง



โลหะประเภทเหล็ก	โลหะประเภทไม่ใช่เหล็ก	ไม้สังเคราะห์พลาสติก	ไม้สังเคราะห์ไฟเบอร์ซีเมนต์	เซรามิก

2. ให้นักเรียนพิจารณาข้อความต่อไปนี้แล้วลากลงไปวางในตารางให้ถูกต้อง

วัสดุเชิงประกอบพอลิเมอร์	วัสดุเชิงประกอบโลหะ	วัสดุเชิงประกอบเซรามิก	วัสดุนาโนจากธรรมชาติ	วัสดุนาโนจากการผลิต
--------------------------	---------------------	------------------------	----------------------	---------------------



--	--	--	--	--

ชื่อ-สกุล.....