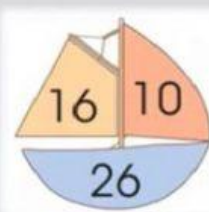
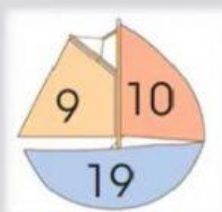


ANALOGÍAS NUMÉRICAS

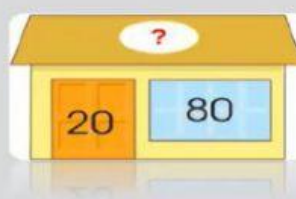
¿Cuál es el número que falta en la figura 3?



Encuentra el número que falta.



Encuentra el número que falta.



Encuentra el número que falta.

