



LEMBAR KERJA SISWA

**SMP SEKOLAH ALAM INSAN MULIA
KELAS 7**

NAMA :


KELAS :

1. Pasangkan bentuk susunan partikel dan jenis benda yang sesuai berdasarkan gambar di bawah ini!

Partikel Benda PADAT

Partikel Benda CAIR

Partikel Benda GAS




2. Golongkanlah zat-zat di bawah ini termasuk unsur, senyawa, atau campuran dengan memilih jawaban yang benar!



UNSUR
SENYAWA
CAMPURAN



UNSUR
SENYAWA
CAMPURAN



Emas

UNSUR
SENYAWA
CAMPURAN



UNSUR
SENYAWA
CAMPURAN



UNSUR
SENYAWA
CAMPURAN

Asam
Cuka



UNSUR
SENYAWA
CAMPURAN

Besi



UNSUR
SENYAWA
CAMPURAN

Karbon



UNSUR
SENYAWA
CAMPURAN



UNSUR
SENYAWA
CAMPURAN


Udara



UNSUR
SENYAWA
CAMPURAN



UNSUR
SENYAWA
CAMPURAN



UNSUR
SENYAWA
CAMPURAN