



Lembar Evaluasi Peserta Didik

Nama: _____

Hari/Tanggal: _____

BANGUN SEGI BANYAK

1. Berilah tanda centang pada ciri-ciri bangun segi banyak yang benar...

☐

Bangun datar terbuka yang seluruh sisinya dibatasi oleh garis lurus

☐

Bangun datar tertutup yang seluruh sisinya dibatasi oleh garis lurus

☐

Bangun datar segi banyak paling sedikit memiliki tiga sisi


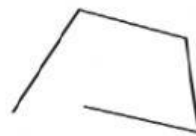
☐

Bangun datar segi banyak paling banyak memiliki tiga sisi

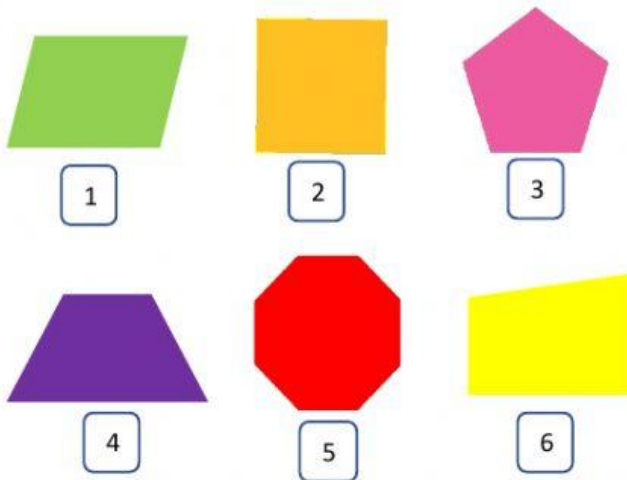
2. Bangun datar segi banyak yang semua sisinya sama panjang dan sudutnya sama besar disebut _____

3. Bangun datar segi banyak yang semua sisinya tidak sama Panjang dan sudutnya tidak sama besar disebut _____

4. Manakah bangun datar yang termasuk segi banyak dan bukan segi banyak?



Perhatikan gambar di bawah ini untuk menjawab soal nomor 5 dan 6!



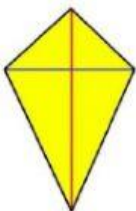
5. Segi banyak beraturan ditunjukkan oleh nomor?

6. Segi banyak tidak beraturan ditunjukkan oleh nomor?

7. Tentukanlah banyak sisi pada bangun datar berikut dengan menarik garis dari gambar ke arah kotak!




8 sisi



10 sisi



12 sisi



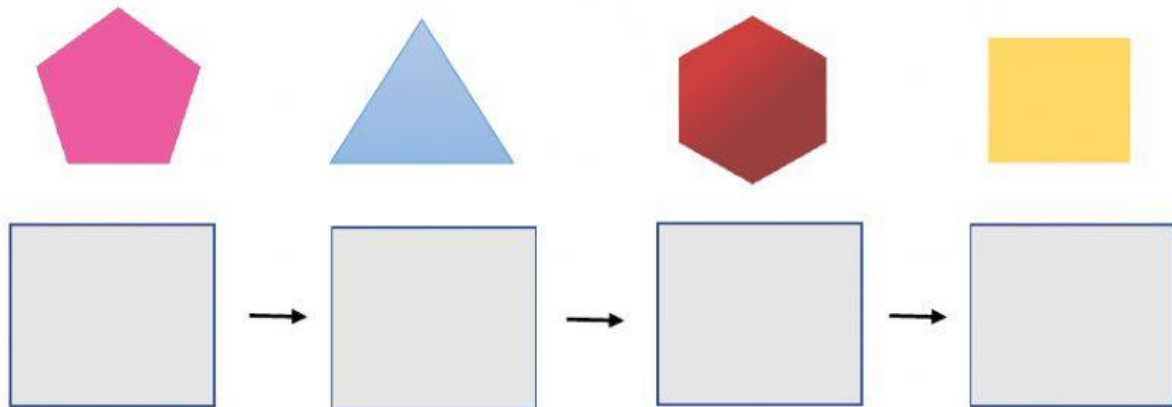
4 sisi



7 sisi









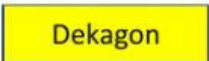



8. Urutkanlah bangun datar berikut mulai dari jumlah titik sudut yang paling sedikit!

Caranya Klik dan tahan bangun segi banyak lalu pindahkanlah segi banyak yang ada ke dalam kotak yang tersedia.



9. Jodohkanlah gambar berikut dengan nama-nama bangun datar yang tepat!

Caranya klik dan tahan nama-nama bangun segi banyak lalu pindahkanlah nama-nama bangun yang ada ke dalam kotak yang tersedia.

Selamat Mengerjakan