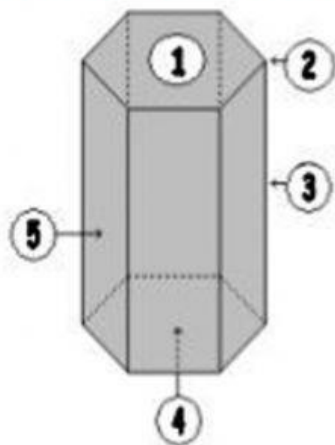
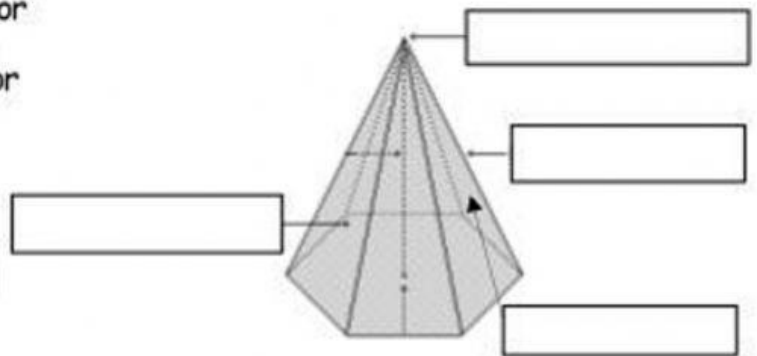


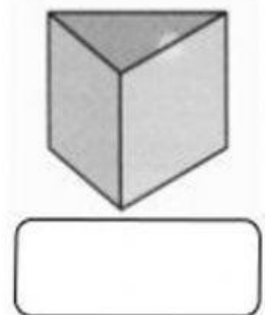
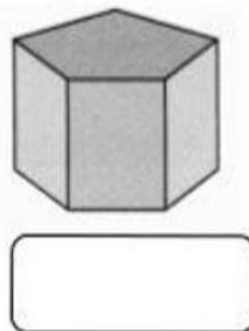
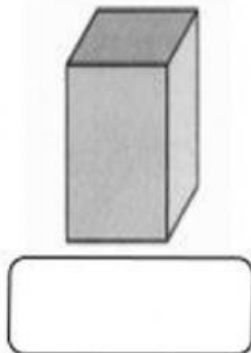
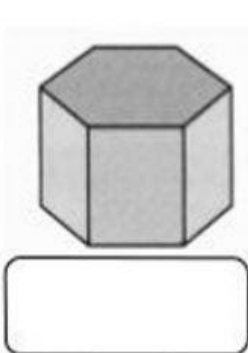
1) Escribe los números o los nombres donde corresponde.



- () Base superior
- () Base inferior
- () Arista
- () Vértice
- () Cara lateral



2) Pon nombre a estas figuras.



3) Cuenta y escribe correctamente.

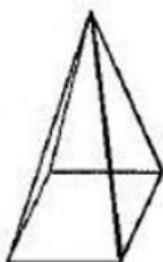


1.- Nombre del cuerpo: _____

2.- Número de aristas: _____

3.- Número de vértices: _____

4.- Número de caras laterales: _____



1.- Nombre del cuerpo: _____

2.- Número de aristas: _____

3.- Número de vértices: _____

4.- Número de caras laterales: _____