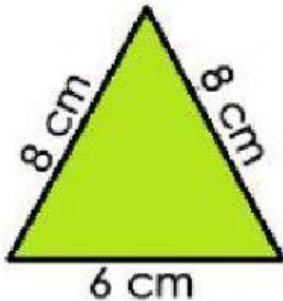


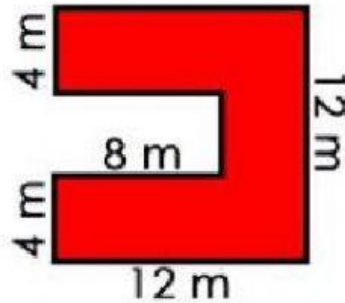
Nome _____ nº _____ 8º _____

ÁREA E PERÍMETRO DE POLÍGONOS

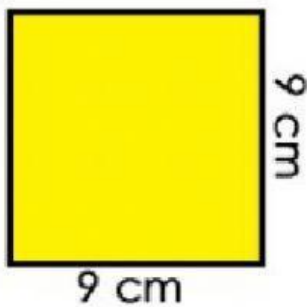
1. Selecione a resposta correta para cada polígono:



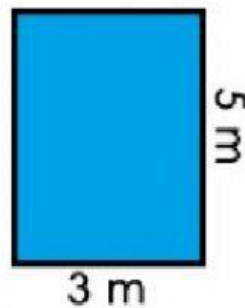
Perímetro: cm



Perímetro: m

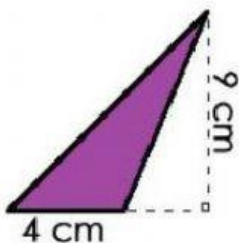


Perímetro: cm

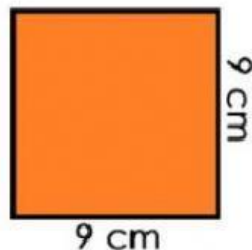


Perímetro: m

2. Informe o valor da área de cada figura:

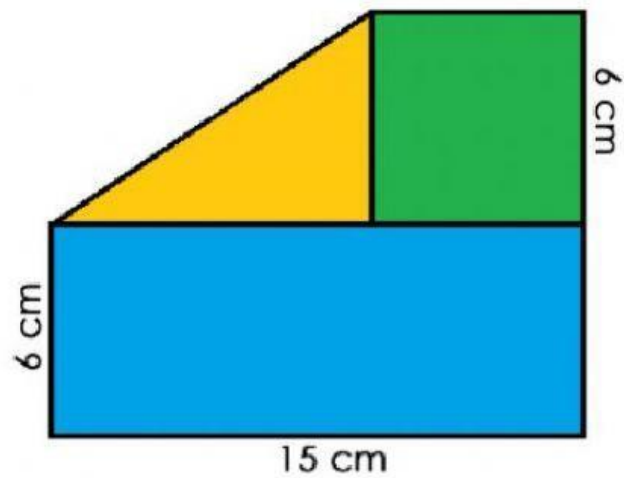


Área: cm²



Área: cm²

3. Observe as medidas e calcule a área de cada figura. Ligar com seus respectivos resultados:



- ÁREA DO RETÂNGULO 153 cm^2
- ÁREA DO TRIÂNGULO 36 cm^2
- ÁREA DO QUADRADO 90 cm^2
- ÁREA TOTAL 27 cm^2

