




1.3 Elige un ejemplo de mezcla de cada tipo, represéntalas mediante el modelo corpuscular.

+2



1.4 Escribe el tipo de mezcla que son las siguientes sustancias.

+2



Acero



Gelatina



Salicilato de bismuto



Parfait

Activar Windows
Ver Configuración

Homogénea

Heterogénea

Coloide

Suspensión