







DE OLHO NOS PREÇOS

1) Veja os preços de cada objeto e, depois, responda:

			
2 reais	30 reais	70 reais	7 reais

a) Qual é o objeto mais barato? _____

b) Qual é o objeto mais caro? _____

c) Qual é o preço da mochila? _____

d) Qual é o preço do pião e do caderno juntos?

2) Ligue a cédula à moeda que tem o mesmo valor.

