













Completa la multiplicación colocando el número que falta.

 $2 \times \square = 20$	 $2 \times \square = 10$	 $2 \times \square = 6$	 $2 \times \square = 12$	 $2 \times \square = 8$
 $2 \times \square = 16$	 $2 \times \square = 4$	 $2 \times \square = 18$	 $2 \times \square = 14$	 $2 \times \square = 2$