



EVALUACIÓN SEGUNDO PARCIAL
ÁREA DE ENTORNO NATURAL
SEGUNDO GRADO

1.) OBSERVE Y SELECCIONE CON UN CLIP DERECHO
LAS IMÁGENES DE LOS ANIMALES MAMÍFEROS:



2.) OBSERVE LAS IMÁGENES LEA Y UNA CON LÍNEAS
CADA ANIMAL SEGÚN SU TIPO DE PIEL:



ESCAMAS




PLUMAS



PELO

3.) SEÑALE CON UN CLIP CUALES SON LOS ELEMENTOS
VITALES PARA LA VIDA



4.)OBSERVE LAS IMÁGENES QUE ESTÁN DEBAJO DEL RECUADRO Y ARRASTRE LOS ANIMALES QUE CORRESPONDAN EN SUS RESPECTIVAS CASIILAS:

ANIMALES VERTEBRADOS	ANIMALES INVERTEBRADOS



5.)OBSERVE LAS IMÁGENES Y UNA CON LÍNEA SU PAREJA, SEGÚN LA UTILIDAD DE CADA PLANTA:




6.) OBSERVE LAS IMÁGENES Y ARRASTRE SEGÚN CORRESPONDA LA IMAGEN EN CADA CLASIFICACIÓN DE LAS PANTAS:

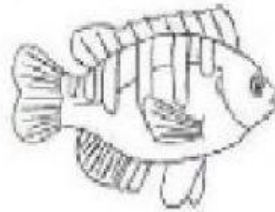
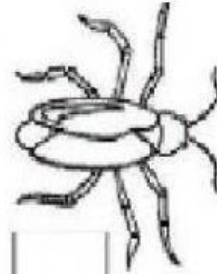

PLANTAS ALIMENTICIAS	PLANTAS INDUSTRIALES	PLANTAS MEDICINALES	PLANTAS ORNAMENTALES



7.) OBSERVE LA IMAGEN LEA Y ARRASTRE LA PALABRA CORRECTA QUE NECESITAN LAS PLANTAS PARA VIVIR:



8.) MARQUE CON UN SIGNO MAS (+) EN CADA
RECUADRO LOS ANIMALES QUE SON
INVERTEBRADOS:

☐☐☐☐☐☐

