

Mata Pelajaran : SBK	Nama : .....	
Hari/Tanggal : .....	Kelas : II (Dua) .....	
Waktu : .....	Skor : $\frac{\text{Jumlah jawaban benar} \times 100}{\text{Total nilai}}$	<div style="border: 1px solid black; width: 60px; height: 60px; margin: 0 auto;"></div>

**pilihan berganda**

Berilah tanda silang (x) untuk jawaban yang paling benar!

1. Karya yang dibuat oleh manusia yang bertujuan untuk keindahan adalah ....  
 A. karya alam                      B. karya buatan                      C. karya seni
2. Berikut ini yang termasuk karya seni tiga dimensi adalah ....

A.



B.




C.



3. Halus, licin atau kasarnya permukaan suatu benda adalah ....  
 A. garis                      B. tekstur                      C. warna
4. Cara yang bisa kita lakukan untuk menentukan tekstur suatu benda adalah ....  
 A. merabanya                      B. menciumnya                      C. mendengarnya
5. Bentuk bidang yang terbentuk dari garis adalah ....

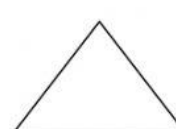
A.




B.



C.



6. Karya seni yang lebih menekankan keindahan gambar adalah ....  
 A. ukiran                      B. lukisan                      C. anyaman
7. Perhatikan gambar berikut!



Contoh karya seni dua dimensi adalah ....

- A. patung                      B. ukiran                      C. lukisan

8. Gambar pemandangan alam di desa berikut ini merupakan gambar tentang ....



A. kepahlawanan

B. teknologi

C. keindahan alam

9. Ungkapan perasaan senang, kagum, sayang atau sedih merupakan pengertian dari ....

A. gambar cetak

B. gambar ekspresif

C. gambar ilustrasi

10. Gambar yang dihasilkan dengan mencelupkan bayam pada tinta atau cat diatas kertas adalah ....

A. gambar cetak

B. gambar ekspresif

C. gambar ilustrasi

11. Budi melukis menggunakan pelepah pisang dan daun bayam. Gambar yang dihasilkan adalah ....

A. gambar ilustrasi

B. gambar cetak

C. gambar ekspresif

12. Orang yang membuat karya seni adalah ....

A. seniman

B. pelukis

C. pemahat

13. Damar akan membuat gambar menggunakan daun dan buah cermai. Bentuk gambar yang dihasilkannya adalah ....

A.



B



C



14. Daun, pelepah dan biji dapat dibuat sebagai ....

A. buku gambar

B. unsur rupa

C. cetakan

15. Angga menggambar menggunakan buku gambar, pensil, penggaris dan krayon. Gambar yang dibuat Angga adalah ....

A. gambar cap

B. gambar ekspresif

C. gambar ilustrasi