

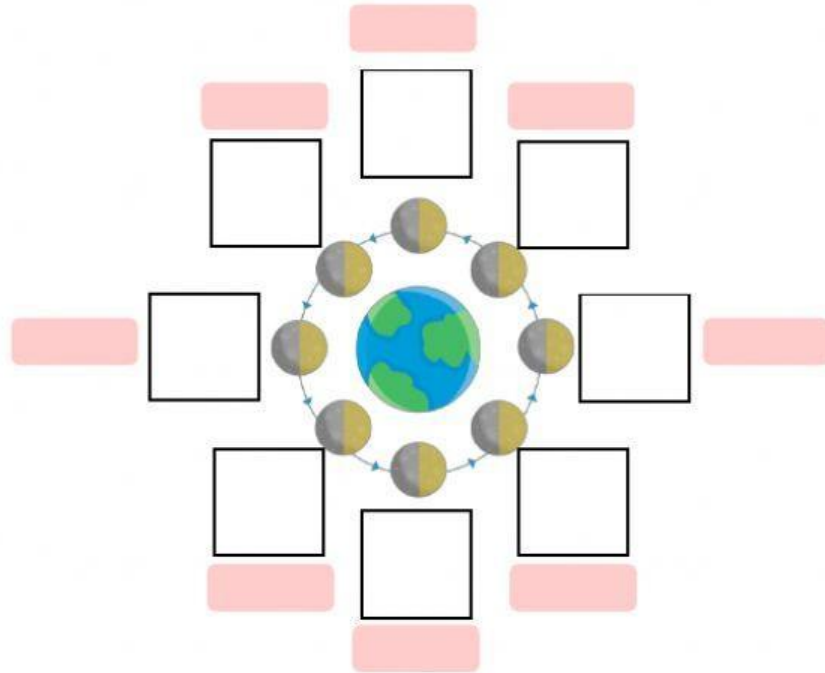


# ใบงานเรื่อง ข้างขึ้น ข้างแรม

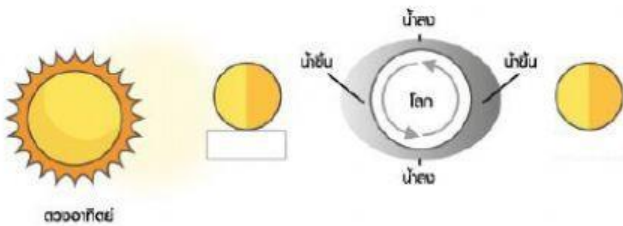


ชื่อ-สกุล ..... ชั้น ..... เลขที่ .....

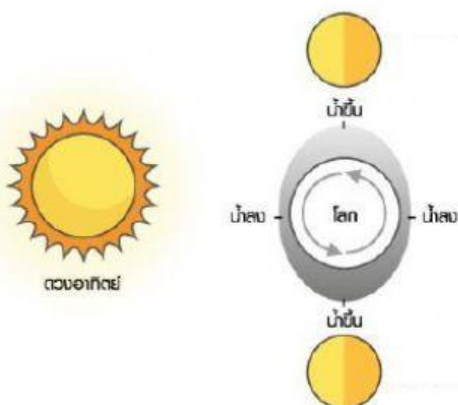
คำชี้แจง : จงเรียงลำดับดวงจันทร์พร้อมทั้งระบุว่าเป็นข้างขึ้นและข้างแรมที่ด้ว่า



คำชี้แจง : จงเติมคำในช่องว่างต่อไปนี้ให้ถูกต้อง



วันที่ระดับน้ำทะเลขึ้นสูงสุดและลดลงต่ำสุด เรียกว่า ..... เกิดในวัน ..... และ ..... ของทุกเดือน



วันที่ระดับน้ำทะเลขึ้นและลดลงไม่เปลี่ยนแปลงมาก เรียกว่า ..... เกิดในวัน ..... และ ..... ของทุกเดือน