



Evaluación Trimestral, Primero Básico
Habilidad: Resolución de Problemas

Nombre: _____

Objetivo del Instrumento: Medir el desarrollo en los estudiantes de la habilidad trabajada durante el Trimestre: Resolución de Problemas.

1.- **Instrucciones:** A partir de las adivinanzas descubre la palabra y luego búscala en la sopa de letras.

- 1.- Alas de mil colores y se pierden entre las flores.
- 2.- Es blanca y tiene alas, mi lugar favorito son plazas y parques.
- 3.- En alto vive, en alto mora, en alto teje, la tejedora.
- 4.- Lenta dicen que es porque sólo asoma la cabeza, las patas y los pies.

M	A	T	R	Q	F	H	A	D	R
A	B	O	V	T	R	K	L	W	E
R	N	R	B	I	I	J	A	R	R
I	H	T	U	A	R	A	Ñ	A	T
P	J	U	W	O	P	W	T	T	Y
O	L	G	P	A	L	O	M	A	U
S	O	A	T	N	S	T	U	I	I
A	P	T	U	S	A	V	E	J	A
Z	Q	Y	O	E	G	I	I	P	O

Encuentra la característica correcta y escríbela para completar la oración.




GIGANTE



DE COLORES

a) La mariposa es _____.



LENTA



RÁPIDA

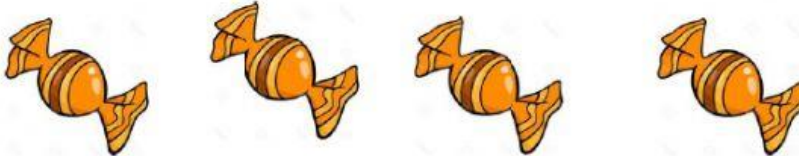
b) La tortuga es _____.

2.- Instrucciones: Resuelve las siguientes situaciones problemáticas

Carlitos esta feliz porque su papá le regalo 3 caramelos.



Y su mamá le regalo 4 caramelos más



Marca la cantidad de caramelos que tiene Carlitos en total

9

7

5

10



6

3.- Instrucciones :Marca el dibujo que representa el siguiente enunciado.

Juan compró 3 peces para su pecera. ¿Cuántos peces tiene Juan?




Carla fue a la feria y compró 8 frutas ¿Cuántas frutas tiene Carla?



¿Cuántas son  ?

¿Cuántos son  ?



4.- Instrucciones: Completa el siguiente enunciado escribiendo el número según lo que observas en la imagen.



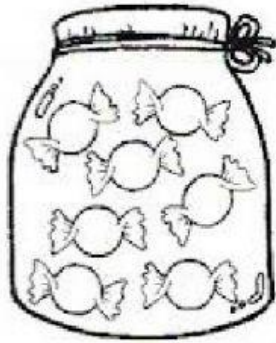
TENGO




GUARDO



AHORA HAY



El pastelero horneó 2 pasteles de frutilla



Luego preparó 7 pasteles más





¿Cuántos pasteles cocinó en total?

$$\square + \square = \square$$

5) **Instrucciones:** completa los siguientes crucigramas de la operatoria de la adición.

1	+	6	=	
+			+	
			2	
<u>9</u>			<u>9</u>	

1	+		=9
+		+	
<u>1</u>		<u>9</u>	

7	+		=9
+			
	+		=4
<u>7</u>		+	
3	+		=5