

MULTIPLICAÇÃO

A **adição de parcelas iguais** refere-se à soma repetitiva de um mesmo número, soma essa que pode ser abreviada por uma multiplicação. Exemplo, um grupo de quatro crianças em que cada uma receberá 3 balas. No total, serão distribuídas



ATIVIDADES

1) Resolva as multiplicações a seguir e represente as parcelas em adição sobre forma de desenho:

Ex: $2 \times 4 = 8$

a) $4 \times 1 = \underline{\quad}$

b) $2 \times 3 = \underline{\quad}$

c) $2 \times 10 = \underline{\quad}$

d) $3 \times 3 = \underline{\quad}$



$4 + 4 = 8$




2) Continue contando as parcelas iguais e multiplicando:



$$3 \times 3 = 9$$



$$\square \times \square = \square$$



$$\square \times \square = \square$$



$$\square \times \square = \square$$



$$\square \times \square = \square$$




$$\square \times \square = \square$$



$$\square \times \square = \square$$



$$\square \times \square = \square$$

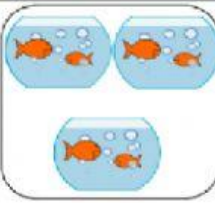







$$\square \times \square = \square$$



$$\square \times \square = \square$$

3) Marque a opção correta:

 <p>a <input type="checkbox"/> 3×4</p> <p>b <input type="checkbox"/> 2×3</p> <p>c <input type="checkbox"/> 2×4</p>	 <p>a <input type="checkbox"/> 4×5</p> <p>b <input type="checkbox"/> 5×3</p> <p>c <input type="checkbox"/> 3×4</p>	 <p>a <input type="checkbox"/> 3×4</p> <p>b <input type="checkbox"/> 2×3</p> <p>c <input type="checkbox"/> 6×3</p>
 <p>a <input type="checkbox"/> 2×5</p> <p>b <input type="checkbox"/> 6×3</p> <p>c <input type="checkbox"/> 5×4</p>	 <p>a <input type="checkbox"/> 5×3</p> <p>b <input type="checkbox"/> 3×6</p> <p>c <input type="checkbox"/> 4×5</p>	 <p>a <input type="checkbox"/> 5×2</p> <p>b <input type="checkbox"/> 2×4</p> <p>c <input type="checkbox"/> 2×1</p>